

2023—2024 学年海南省高考全真模拟卷(一)

历史

1. 本试卷满分 100 分,测试时间 90 分钟,共 8 页。
2. 考查范围:中国古代史全部内容(必修+选择性必修)。

一、选择题:本大题共 15 小题,每小题 3 分,共 45 分。分为单项选择题 I 和单项选择题 II 两部分。

单项选择题 I:1~13 题,每题 3 分,共 39 分。每题只有一个正确选项。

1. 陶寺遗址的“王”级墓葬出现了来自不同地区的仪式用品。其典型陶器具有山东、河南、江汉、西北和关中地区龙山时代文化因素;玉琮、玉璧等继承了良渚文化的传统;透雕兽面玉佩受到江汉地区后石家河文化的影响;铃和齿轮形器等铜器则受到西北地区的影响。这一发现反映了
 - A. 中原文明占据主导地位
 - B. 早期手工业发展水平较高
 - C. 不同地域分工十分明显
 - D. 早期中华文明的多元互动
2. 春秋战国时期,“士”人参政日渐普遍,墨子主张“入国而不存其士,则亡国矣。见贤而不急,则缓其君矣”;秦孝公求贤才于天下,颁布《求贤令》,“有能出奇计强秦者,吾且尊官,与之分土”。这反映了
 - A. 君主权力受到削弱
 - B. 宗法政治走向瓦解
 - C. 百家争鸣出现高潮
 - D. 兼并战争日益频繁
3. 据《睡虎地秦墓竹简》记载,秦王朝实行了严密的文书上报制度,要求各地官府衙署必须以文书的形式将该地有关政治、经济、军事等事务呈报上级或内史,又以“同文书”对所报文书的内容、书写要求、上报时间及递送方式等作了统一的规定。这些举措
 - A. 规范了地方行政制度
 - B. 导致郡县自主性削弱
 - C. 有效防止了官员腐败
 - D. 有利于巩固国家统一
4. 考古发现,在山东出土的西汉前期铁范上仅标注了显然属于姓氏的“李”“汜”“山”等文字标识;而出土的西汉中后期铁范上多刻有以郡名为首的“山阳二”“钜野二”等铭文。这一变化的出现主要是由于
 - A. 民营冶铁业发展迅速
 - B. 国家放松了经济管制
 - C. 工商业政策发生调整
 - D. 冶铁业生产的区域化
5. 东晋建国之初,宰相王导替晋元帝向南方士族请婚,推荐南方名流任职;还用“戮力辅佐王室,共图恢复中原”的铮铮言词,为北方士族撑腰打气。王导的做法意在
 - A. 推动少数民族汉化
 - B. 巩固东晋的统治基础
 - C. 改革九品中正制度
 - D. 促进南北文化的交流
6. 图 1 为 845—865 年文臣(主要是朝臣)在藩帅(以节度使、观察使为主)群体中所占比例。据此可知,这一时期

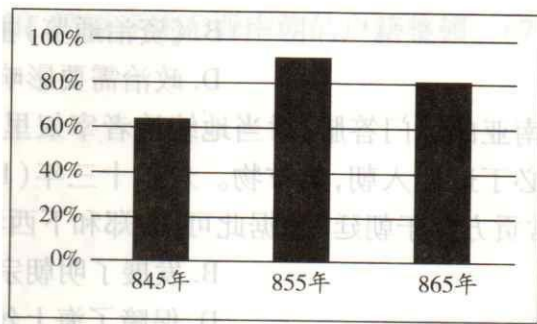


图 1

- A. 中央仍有较大影响力
 B. 藩镇割据问题日益严重
 C. 唐朝的国势由盛转衰
 D. 中央与地方的矛盾加深

7. 图 2 是唐代部分时段全国总户数的变化示意图。图中全国总户数最高点出现的主要原因是

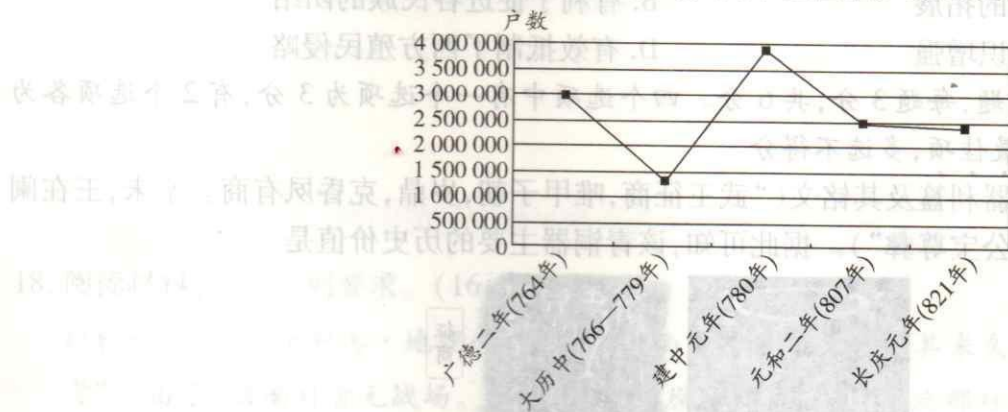


图 2

- A. 人口生育率的增长
 B. 社会经济发展迅速
 C. 国家户籍管理放宽
 D. 新赋税制度的推行

8. 据宋代《哲宗正史·职官志》记载,作为一州长官的知州,除依照朝廷法制管理户口和赋役、钱谷以及审理案件外,还负责向辖境内的百姓宣讲朝廷条制,引导百姓向善,“劝课农桑,旌别孝悌”。这说明,宋代

- A. 知州独揽地方大权
 B. 以法治国得到落实
 C. 重视地方社会教化
 D. 基层治理体系完善

9. 嘉祐七年(1062年)四月,“夏国主谅祚上表求太宗御制诗草、隶书石本,欲建书阁宝藏之……求九经、唐史、册府元龟及本朝正至朝贺仪。诏赐九经,还其马”,次年四月“以国子监所印九经及正义、孟子、医书赐夏国,从所乞也”。这一事件

- A. 加速了西夏民族文字的创制
 B. 开启了西夏封建化历程
 C. 促使北宋加强对西夏的统治
 D. 促进了中原文明的扩展

10. 据《元典章》卷四的《外省不许泛滥咨禀》记载:各行省“不详事体轻重,无问巨细,往往作疑咨禀”,要求各行省“除重事并创支钱粮合咨禀者议拟咨来,其余公事应合与决者,随即从公依例与决,毋得似前泛咨。”据此可推知,元朝

- A. 行省制兼顾中央集权与地方分权
 B. 中央与地方矛盾逐渐激化
 C. 中央政府简化地方行政管理制度
 D. 行省制度蕴含着分裂因素

11. 司马光在《资治通鉴》中以魏为主,故书“诸葛亮将入寇”。朱熹评论司马光的《资治通鉴》道:“三国当以蜀汉为正,而温公(司马光)乃云,某年某月‘诸葛亮入寇’,是冠履倒置,何以示训?”这一争议说明

- A. 二者阶级立场存在差异
- B. 《资治通鉴》主观性较强
- C. 朱熹注重揭示历史真相
- D. 政治需要影响正统观念

12. 郑和第一次下西洋到达东南亚的苏门答腊,对当地统治者宰奴里阿必丁举行了封王仪式。永乐三年(1405年),宰奴里阿必丁遣使入朝,贡方物。永乐十三年(1415年),郑和助苏门答腊王平乱后,“其王子荷蒙圣恩,常贡方物于朝廷”。据此可知,郑和下西洋

- A. 促进了民族文化交融
- B. 发展了明朝宗藩朝贡体系
- C. 增加了国家财政收入
- D. 保障了海上丝绸之路通畅

13. 康熙二十九年(1690年),清政府正式确立了巡边制度,巡边官兵除了察看边界有无越界民人、牲畜侵入或破坏等异常情况外,还在“各书衔名月日于木牌瘞(yì,埋藏)山上,明年(次年)察边者取归,以呈将军、副都统”。此制度开始于东北边境,后推广到西北边境。该制度的确立

- A. 推动了清朝疆域版图的拓展
- B. 有利于促进各民族的团结
- C. 体现国家疆域边界意识增强
- D. 有效抵制了西方殖民侵略

单项选择题 II: 14~15 题,每题 3 分,共 6 分。四个选项中有一个选项为 3 分,有 2 个选项各为 1 分,错误项为 0 分。选出最佳项,多选不得分。

14. 图 3 是西周早期的青铜器利簋及其铭文(“武王征商,唯甲子朝,岁鼎,克昏夙有商。辛未,王在阑师,赐右吏利金,用作檀公宝尊彝”)。据此可知,该青铜器主要的历史价值是



图 3

- A. 直观反映西周初期文字特征
- B. 是西周最早的国家祭祀用器
- C. 上圆下方体现天圆地方观念
- D. 为夏商周断代提供直接史料

15. 图 4 是明清江南地域专业化分工示意图。该示意图突出反映了明清时期,江南地区



图 4

- A. 资本主义萌芽产生
- B. 区域经济具有互补性
- C. 农业多种经营发展
- D. 东部手工业相对发达

二、非选择题:共 55 分。第 16 题 14 分,第 17 题 13 分,第 18 题 16 分,第 19 题 12 分。

16. 阅读材料,完成下列要求。(14 分)

材料 20 世纪中叶,德国哲学家雅斯贝尔斯提出了“轴心时代”这一命题。他认为,从此,“人类一直靠轴心时期所产生的思考和创造的一切而生存,每一次新的飞跃都回顾这一时期,并被它重燃火焰……轴心期潜力的苏醒和对轴心期潜力的回归,或者说复兴,总是提供了精神的动力。”

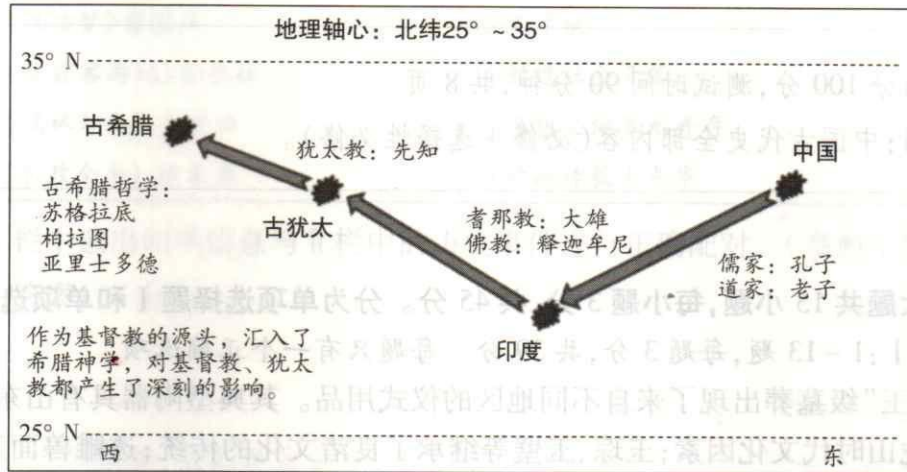


图 5

(1) 根据材料并结合所学知识, 概括中西方进入“轴心时代”的背景。(6 分)

(2) 根据材料并结合中西方相关史实, 论证“人类一直靠轴心时期所产生的思考和创造的一切而生存”这一观点。(8分)

17. 阅读材料, 完成下列要求。(13分)

材料一 《隋书·食货志》中记载:“晋自中原丧乱, 元帝寓居江左, 百姓之自拔南奔者, 并谓之侨人。皆取旧壤之名, 侨立郡县, 往往散居, 无有土著。……其无贯之人, 不乐州县编户者, 谓之浮浪人, 乐输亦无定数, 任量, 准所输, 终优于正课焉。都下人多为诸王公贵人左右、佃客、典计、衣食客之类, 皆无课役。”……据《宋书》记载:“及至(东晋)大司马桓温, 以民无定本, 伤治为深, 庚戌土断, 以一其业。于时财阜国丰, 实于此。自兹迄今, 弥历年载, 画一之制, 渐用颓弛。……于是(宋公刘裕)依界土断, 唯徐、兖、青三州居晋陵者, 不在断例。诸流寓郡县, 多被并省。”

——据《隋书》《宋书》等整理

材料二 “侨置郡县”的建立给南方的郡县制度、行政区划和户籍带来极大的混乱, 因此东晋南朝政府以整顿户籍、搜括人口为主要目的的所谓“土断”先后实施了十次。侨户“土断”后皆入白籍, 成为国家的正式编户, 并且从“土断”注册到正式课租, 给予新附侨户一定的优复期限。其中桓温和刘裕在实施“土断”后, 国家都出现“财阜国丰”的局面, 刘裕“土断”的成功和王、谢为首大族的衰颓密切相关。……东晋南朝虽屡经“土断”, 仍然是“弥山满海, 皆是私役”。

——摘编自曹文柱《关于东晋南朝时期的“土断”问题》

(1) 根据材料并结合所学知识, 概括东晋南朝进行户籍整顿的原因。(6分)

(2)根据材料并结合所学知识,简要评述东晋南朝的户籍整顿。(7分)

18. 阅读材料,完成下列要求。(16分)

材料一 据《琼州府志·地理志》记载:“海南史志河渠、水利,其来久矣。琼自唐以前,水利无可考”。由于“海南自古无战场。靖康之变,中原纷扰几三十年,此郡独不见兵革”。宋元时期大陆移民一再大量迁入海南,宋代海南的大陆移民从唐代的七万增加到十万,促使海南水利建设从宋元时代开始迈出较大的一步。

——摘编自王冬梅《试论宋元时期海南水利建设与农业开发》

材料二 表1是史书中关于宋元时期海南水利兴修的相关记载。

表1

工程名称	修建者	记载
琼山度灵塘	琼州知州李易(宋)	《宋史·河渠志》中提到“州南五里有度灵塘,开修渠堰,溉水田三百余顷,居民赖之”
洪口溪	万安知军贺贾(元)	《道光广东通志》中记载:“元大德二年(1298年),知万安军达鲁花赤贺贾导踢容河,知军捐俸助,万宁县民吴显昌凿洪口,导河水至小海,设陂十三所开沟十八条,灌田七千余亩”
义丰堤闸	学正张宜举(元)	《万历广东通志·琼州府》中记载:“其间义丰、遵化、丰好等处,民田往因洪水冲决,陵谷变迁,难以稼穡。……堤桥车闸,修制有方,七年之内,方始成效。凡通水利一十八处,成熟田者凡十万余顷”
浦丹坝	黎族酋长陈荐观(元)	《正德琼台志》中记载:“有水泛流。元末,酋长陈荐观疏通,泄于大江”
密泽陂	峒主王观泰(元)	《万历琼州府志》中记载:“近龙滚江,元末,峒主王观泰集众筑坝以防,又垦荒原数顷”

(1) 根据材料并结合所学知识,概括宋元时期海南岛水利兴修发展的原因。(8分)

(2) 根据材料并结合所学知识,分析宋元时期海南岛水利兴修发展的影响。(8分)

19. 阅读材料,完成下列要求。(12分)

材料

表2

I. 科技文艺作品和创作者	II. 相关历史现象或事件
A. 小说《西游记》吴承恩	①工商业经济繁荣
B. 科技《天工开物》宋应星	②八股取士
C. 小说《红楼梦》曹雪芹	③文字狱
D. 地理《徐霞客游记》徐弘祖	④封建社会没落
E. 小说《儒林外史》吴敬梓	⑤思想文化多元并存
F. 农学《农政全书》徐光启	⑥欧洲传教士来华

(1)从表2的I栏中选出四项信息与II栏中的历史事件进行正确配对。(参照示例如:A—⑤,示例不得作为答案)(4分)

(2)从已配对的四组信息中提炼一个主题,结合所学知识予以阐述。(要求:主题明确,观点正确,史论结合,符合逻辑,表达清晰)(8分)

○
○
○
装
订
线
内
不
要
答
题
○
○
○