

唐山市 2023—2024 学年度高三年级摸底演练

思想政治

本试卷共 8 页，20 小题，满分 100 分。考试时间 75 分钟。

注意事项：

1. 答卷前，考生务必将自己的姓名、考生号、考场号、座位号填写在答题卡上。
2. 回答选择题时，选出每小题答案后，用 2B 铅笔把答题卡上对应题目的答案标号涂黑。如需改动，用橡皮擦干净后，再选涂其他答案标号。回答非选择题时，将答案写在答题卡上。写在本试卷上无效。
3. 考试结束后，将本试卷和答题卡一并交回。

一、选择题：本题共 16 小题，每小题 3 分，共 48 分。在每小题给出的四个选项中，只有一项是符合题目要求的。

1. 从 19 世纪开始，迫于动荡的社会形势，资本主义国家试图解决广大劳工阶级的社会问题，如提高工人在确定工资水平中的谈判能力，鼓励员工持有公司股票，促进股权的分散化，在公司管理中设置部分工人代表等，“人民资本论”也随之产生。对此现象理解正确的是

- ①资产阶级和无产阶级之间的矛盾不可缓和
- ②阶级斗争是推动阶级社会发展的直接动力
- ③资产阶级和无产阶级之间的阶级差别不断淡化、阶级界限逐渐模糊
- ④这是人类社会发展的—般规律和资本主义经济规律共同作用的结果

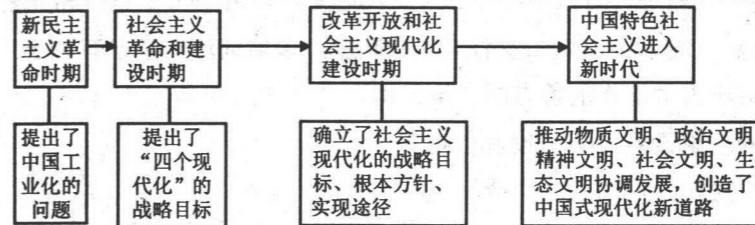
A. ①② B. ①③ C. ②④ D. ③④

2. 习近平指出，我们的社会主义为什么不一样？为什么能够生机勃勃充满活力？关键在于中国特色，而中国特色的关键就在于把马克思主义基本原理同中国具体实际相结合、同中华优秀传统文化相结合。这启示我们，在新时代应

- ①坚持改革开放，把中国特色社会主义推向 21 世纪
- ②在伟大实践中继续推进马克思主义中国化时代化
- ③用马克思主义基本原理改造中华优秀传统文化
- ④以推进中国特色社会主义伟大事业来奋力实现伟大梦想

A. ①② B. ①③ C. ②④ D. ③④

3. 党团结和带领各族人民成功走出了中国式现代化道路，创造了人类文明新形态。围绕“中国式现代化道路”，某班同学开展了探究性学习，绘制了下列导图。



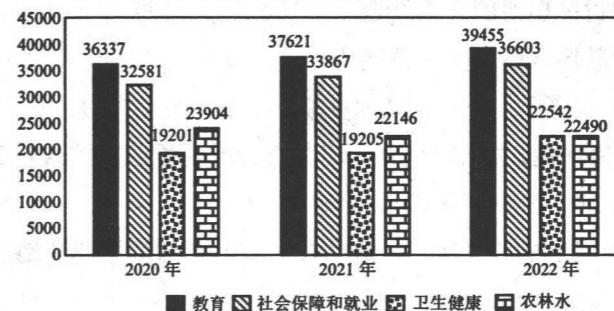
材料表明，中国共产党在探索中国式现代化新道路过程中

- ①始终坚持为人民谋幸福、为民族谋复兴的初心使命
- ②遵循社会发展规律，把握党和国家事业发展的历史主动
- ③始终以中国特色社会主义理论为指导，确立各阶段的现代化目标任务
- ④为其他发展中国家实现现代化找到了一条必由之路

A. ①② B. ①④ C. ②③ D. ③④

4. 下图是 2020—2022 年我国一般公共预算主要支出情况。据此，下列判断正确的是

2020 年—2022 年一般公共预算主要支出情况（亿元）



注：2022 年全国一般公共预算收入 20.37 万亿元，比 2021 年增长 0.6%；2022 年全国一般公共预算支出 26.06 万亿元，增长 6.1%。

- ①我国财政支出结构优化、重点突出，注重保障和改善民生
- ②我国已经建立起与经济发展水平相适应的、高水平的社会保障体系
- ③2022 年一般公共预算收入增速缓慢制约了当年一般公共预算支出
- ④通过国民收入再分配的持续完善努力让全体人民共享改革发展成果

A. ①② B. ①④ C. ②③ D. ③④

5. 私募基金，指的是以非公开方式向特定投资者募集资金并以特定目标为投资对象的证券投资基金。为促进私募基金的健康发展，我国出台了《私募投资基金监督管理条例》，这是我国出台的首部私募投资基金监管专门行政法规。该条例出台将会产生的积极效应可能有

- ①更好保护投资者合法权益，激发民间资本的投资热情
- ②助力解决实体经济融资难的困境，直接推动科技创新
- ③防范和化解金融风险，助力资本市场高质量发展
- ④创新国家宏观调控手段，促进国民经济平稳运行

A. ①② B. ①③ C. ②④ D. ③④

6. 2023年4月和5月,十四届全国人大第一期、第二期代表学习班先后举行。与会代表深入学习贯彻党的二十大精神,重点学习习近平法治思想、习近平关于坚持和完善人民代表大会制度的重要思想,深入学习宪法及有关法律制度。该培训班的举办有利于

- ①把党的领导贯穿于人大工作的各方面、全过程
- ②提升人大代表的理论素养,站稳政治立场
- ③人大代表行使立法权,提高立法质量
- ④巩固人民代表大会在我国政治制度体系中的核心地位

A. ①② B. ①③ C. ②④ D. ③④

7. 几年前,金华市后陈村的村干部和群众几经讨论,表决通过了村务管理制度和监督制度,选举产生了全国首个村务监督委员会,其职责是代表村民全方位全过程监督村里的人、财、事,这被称为“后陈经验”。“后陈经验”的成功在于它

- ①加强制度建设,促进了村务制度化、规范化发展
- ②赋予了全体村民民主监督的权利
- ③实现了党的领导与村民自治的有机结合
- ④尊重了村民在农村基层自治中的主体地位

A. ①③ B. ①④ C. ②③ D. ②④

8. 中国传统稻作重视收集河泥、塘泥、沟淤,将其直接或经堆沤后施入稻田,用作肥料。这不仅减少了水稻的施肥量,降低了稻田温室气体排放,还减少了自然湿地洼地的有机物淤积,使甲烷产生菌没有足够的“食物”,进而显著降低自然湿地或洼地的甲烷排放。这启示我们

- ①一切从实际出发、实事求是正确解决矛盾的关键
- ②尊重客观规律是规律发挥作用、造福人类社会的前提
- ③联系具有普遍性、多样性,要充分发掘事物与其周围事物的有益联系
- ④传统农业智慧可以为今天实现人与自然和谐共生提供宝贵经验

A. ①② B. ①④ C. ②③ D. ③④

9. “红军指挥员必须有驾驭整个战争变化发展的能力。指挥员在战争的大海游泳,他们不使自己沉没,而要使自己决定地有步骤地达到彼岸。指导战争的规律,就是战争的游泳术。”这是毛泽东在战争实践中总结出的基本战略战术原则,不但对人民战争而且对现代战争仍具指导作用。上述材料蕴含的哲学道理有

- ①真理具有反复性和无限性
- ②社会意识具有相对独立性
- ③源自于实践的理论对实践有促进作用
- ④事物的共性寓于个性之中

A. ①③ B. ①④ C. ②③ D. ②④

10. 龙舟竞渡是湖南汨罗江畔一项历史悠久的端午活动。按照汨罗传统龙舟风俗,龙舟队在参加比赛前,会举行祭龙头、龙头点睛、龙舟上红、龙舟下水等一系列仪式。弘扬“拼搏、爱国、团结”精神的赛龙舟,已成为让中华优秀传统文化重新焕发生机的重要载体。龙舟竞渡活动



- ①体现水乡儿女对乡土的依恋、对传承的坚守、对民族精神的弘扬
- ②兼具传统文化与体育竞技之美,将文化认同与竞技精神相融合
- ③发挥了民族文化在维系社会生活、维持社会稳定中的决定作用
- ④既让人们感悟到传统文化强大的生命力,又丰富了传统文化的内涵

A. ①② B. ①③ C. ②④ D. ③④

11. M国下议院举行会议,选出了下议院议长和副议长。根据该国宪法,下议院议长将出任国会主席,负责召集上下两院开会共同投票选出新总理,然后由国王任命。在此前进行的大选中,Y党出人意料地成为了下议院最大政党,包括两大反对党在内的8个政党组建了政党联盟,以Y党领袖为总理候选人。由此可推断M国

- ①在国家结构形式上采用的是君主立宪制
- ②采取多党制来维护统治阶级的利益
- ③实行议会制,总理总揽国家行政权力
- ④国家元首一定是由该国的选民选举产生

A. ①② B. ①④ C. ②③ D. ③④

12. 伊朗正式加入上合组织;启动接收白俄罗斯为成员国的程序;批准埃及、沙特、卡塔尔,同意巴林、马尔代夫、阿联酋、科威特、缅甸为新的对话伙伴……上合组织迎来新一轮最大规模扩员,再次彰显出“上海精神”的生命力、凝聚力和吸引力。上述材料表明,上合组织

- ①追求和平、友好的价值理念深入人心,发展前景被广泛看好
- ②不是封闭排他的“小圈子”,而是开放包容的“大家庭”
- ③是践行多边主义的最佳场所,为世界树立了新型国际关系典范
- ④作为一体化程度最高的区域性国际组织,为世界和平与发展注入新动力

A. ①② B. ①③ C. ②④ D. ③④

13. 某知名博主 A 在微博中为庆祝其微博粉丝量达到 2100 万, 发布了一张经过粉丝 PS 过的照片作为粉丝的福利。该微博图片篡改自原创作者 B 的某著名军旅摄影作品, 将作品中左起第三名战士的头像换成了博主的头像, 对作品进行了裁剪并配上误导性文字。此事件中

- ①A 侵犯了原著作者的修改权、作品完整权和信息网络传播权
- ②B 可利用法律手段维护自己的合法权益, 对 A 发起行政诉讼
- ③若 A 构成侵权, 则需要承担赔礼道歉、消除影响、恢复名誉的责任
- ④A 的行为有违道德标准, 但并不违反法律规定, 不应追究其法律责任

A. ①③ B. ①④ C. ②③ D. ②④

14. 宠物店员工小李为顾客小张的宠物狗洗澡时手指被咬, 致右手食指端节骨折。事后小李找老板协商赔偿, 但老板表示这与他无关, 要他找狗主人索赔。小李经咨询律师得知, 在工作期间因公受伤都属于工伤。因此, 小李发起劳动仲裁, 经仲裁小李获得了应有的赔偿。关于本案, 下列说法正确的是

- ①小张作为宠物狗的主人, 应该承担无过错侵权责任
- ②小张和宠物店事实上形成服务合同, 宠物店在提供服务时理应预知并承担其中的风险
- ③小李在工作中因公受伤, 属于工伤, 理应由宠物店老板承担赔偿责任
- ④小李向宠物店申请工伤赔偿的请求, 适用举证责任倒置原则

A. ①③ B. ①④ C. ②③ D. ②④

《晏子使楚》讲述了春秋末期, 齐国大夫晏子维护自己和国家尊严的故事。

晏子至, 楚王赐晏子酒, 酒酣, 吏二缚一人诣王。王曰: “缚者曷为者也?” 对曰: “齐人也, 坐盗。” 王视晏子曰: “齐人固善盗乎?” 晏子避席对曰: “婴闻之, 橘生淮南则为橘, 生于淮北则为枳, 叶徒相似, 其实味不同。所以然者何? 水土异也。今民生长于齐不盗, 入楚则盗, 得无楚之水土使民善盗耶?” 王笑曰: “圣人非所与熙也, 寡人反取病焉”。结合上文, 回答 15-16 题。

15. 楚王根据“齐人也, 坐盗”而得出结论“齐人固善盗”, 对此认识正确的是

- ①楚王的论断依据三段论规则犯了小项不当扩大的错误
- ②楚王的推理是完全归纳推理, 属于必然推理
- ③楚王的推理, 运用了换质位推理
- ④楚王的推理违反了逻辑思维的确定性要求, 偷换了概念

A. ①③ B. ①④ C. ②③ D. ②④

16. 晏子用“橘生淮南则为橘, 生于淮北则为枳”的言论巧妙地反驳了楚王的观点, 其反驳

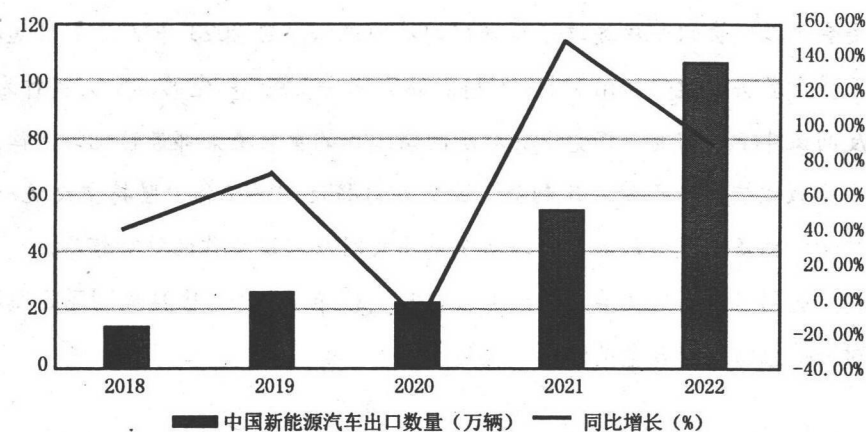
- ①运用了相容选言的判断
- ②通过类比推理, 论证了自己的观点
- ③使用了定性和定量的分析方法
- ④采用了探求因果关系的求异法

A. ①③ B. ①④ C. ②③ D. ②④

二、非选择题: 本题共 4 小题, 共 52 分。

17. 阅读材料, 完成下列要求。(18 分)

材料一 2018—2022 年中国新能源汽车行业出口数量走势图 (单位: 万辆, %)



注: 2022 年欧洲市场销售量前五的新能源汽车品牌中除了特斯拉外, 全是欧洲本土品牌, 中国品牌在欧洲市场份额较小。

材料二 近年来, 我国新能源汽车出口量持续增加, 然而制约其发展的因素也比较突出。首先, 核心技术突破方面虽取得了明显的进步, 但在动力电池延长寿命、低温性能、快充性能等方向存在短板。另外, 技术发展需要人才引领, 而我国当前新能源汽车产业人才缺口显著扩大, 但专业人才培养却并非是一蹴而就的。与此同时, 消费者关注的不再只是产品本身, 还会进一步考虑产品的售后服务, 在同类新能源汽车质量和性能都相近的情况下, 消费者会倾向于选择售后服务更优质的车企。

(1) 概括材料一所反映的经济信息。(6 分)

(2) 当前, 我国新能源汽车“出海”势头正盛。结合材料二, 运用《经济与社会》《当代国际政治与经济》的知识, 谈谈如何推动我国新能源汽车高质量“出海”。(12 分)

18. 阅读材料,完成下列要求。

《中华人民共和国反间谍法》是党的十八届四中全会作出全面推进依法治国重要决定后,全国人大常委会审议批准的维护国家安全的第一部专门法律。2023年4月,第十四届全国人大常委会第二次会议表决通过了新修订的反间谍法,自2023年7月1日起施行。此次修订全面贯彻落实习近平法治思想,坚持总体国家安全观,以党的二十大精神为指引,立足新时代反间谍斗争的需要,将党中央对反间谍工作的重大决策部署转化为法律,坚决维护政治安全、政权安全,保护人民利益;此次修订将反间谍工作“坚持中央统一领导”修改为“坚持党中央集中统一领导”,以明确党中央对反间谍工作的绝对领导。

结合材料,运用《政治与法治》的知识,说明党领导《中华人民共和国反间谍法》的制定和修改对维护总体国家安全的作用。(12分)

19. 阅读材料,完成下列要求。

陈某于2013年就职于某医院并签订劳动合同。2017年6月,该医院开展院内员工微信朋友圈推广工作,要求全体员工在周六日休息期间推广信息并对信息转发量进行考核,未达标者按要求扣发薪酬。陈某因未按要求转发,医院共计扣除陈某10000元。2021年8月30日,该医院以陈某未在朋友圈转发推送相应链接、未完成交办工作任务为由解除劳动合同。后陈某申请仲裁,请求医院支付其克扣工资、加班工资、违法解除劳动合同的赔偿金。劳动仲裁委审理后,裁决医院因违法解除劳动合同而支付赔偿金和少发工资给陈某。

结合材料,运用《法律与生活》的知识,说明陈某选择仲裁方式维权的原因,并就仲裁结果做简要分析。(6分)

20. 阅读材料,完成下列要求。(16分)

2023年6月2日,习近平在文化传承发展座谈会上强调,继续推动文化繁荣,坚持走自己的路,传承发展中华优秀传统文化,不断培育和创造新时代中国特色社会主义文化。如何传承优秀传统文化,推动文化繁荣?成都大运会为我们做了一次完美诠释。

踏着“蜀锦”入场的运动员意气风发,追寻“锦绣前程”;红蓝相间、遍织芙蓉与“太阳神鸟”的奖牌蜀锦绶带,高雅别致;结合蜀锦与蜀绣工艺的中国代表团引导牌……千年蜀锦屡屡亮相,“蜀中瑰宝”惊艳世界!

蜀锦历史悠久,风格独特。蜀锦的经纬线起花的首创技艺,在我国古代丝绸史上留下辉煌一页,影响了后世丝织技术的发展。大运会奖牌绶带设计和制作团队运用蜀锦工艺,形成蜀文化太阳神鸟围绕芙蓉花飞翔的图案,周而复始,生生不息,既突出大运会“活力”主题,又蕴含“生命在于运动”之意。这是对蜀锦的创新应用和时尚化呈现。

(1) 结合材料,运用“唯物辩证法的实质与核心”和“文化传承和文化创新”的知识,分析在大运会亮相的“蜀中瑰宝”何以惊艳世界。(10分)

(2) 结合材料,运用《逻辑与思维》中的辩证思维方法,为如何正确对待传统文化提一条建议。(6分)