

2023- -2024 学年度高三年级第一次调研测试

历史试题

2023.09

注意事项

考生在答题前请认真阅读本注意事项及各题答题要求。

- 1.本试卷共6页。本次考试满分为100分，考试时间为75分钟。
- 2.答题前，请务必将自己的姓名、考试号等用0.5毫米黑色签字笔填写在答题卡上。
- 3.请认真核对答题卡表头规定填写或填涂的项目是否正确。
- 4.作答非选择题必须用0.5毫米的黑色签字笔写在答题卡上的指定位置，在其他位置作答一律无效。作答选择题必须用2B铅笔把答题卡上对应题目的答案标号涂黑。如需改动，请用橡皮擦干净后，再选涂其他答案。

一、选择题:本大题共16小题，每小题3分，共48分。在每小题列出的四个选项中，只有一项是符合题目要求的。

1.风俗是一种被模式化的社会生活方式。《诗经·周南·关雎》倡导“美教化，移风俗”；《庄子·秋水》提出“当其时，顺其俗者，谓之义徒”；《商君书·算地》中云“故圣人之为国也，观俗立法则治，察国事本则宜。”可见三者都主张

- A.重视风俗，顺俗行事
- B.道德教化，移风易俗
- C.观俗立法，察国事本
- D.以俗观政，政俗结合

2.图1反映了两晋时期参与中央决策的官员出身变化的情况

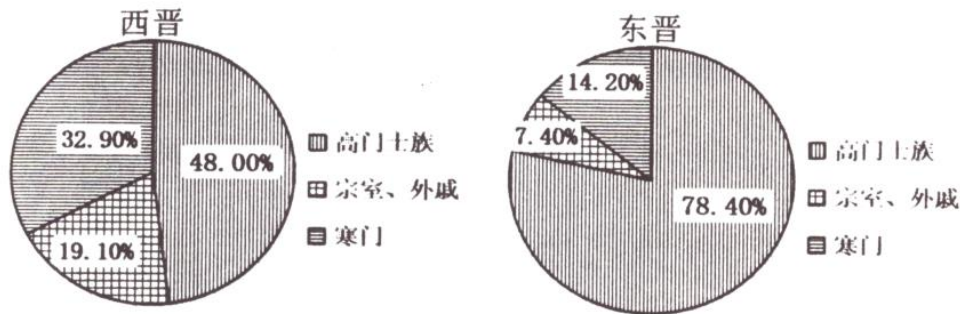


图1

由此可知东晋时期

- A.专制皇权受到削弱。
- B.江南士族垄断政权
- C.皇权与士族特权间相互制衡
- D.分权体制削弱了政府统治力

3.“和亲”是中国古代王朝处理民族问题的重要方式。唐代和亲多达27起，终唐-朝，东起海隅，西达大漠北至碛北，都留下了和亲公主的足迹。下列诗句中赞同和亲政策的是

- A.早得用蛾眉，免陷边戍卒
- B.汉家青史上，计拙是和亲。
- C.君王莫信和亲策，生得胡虏雏更多。

D.何事将军封万户，却令红尘为和戎

4.据《马可●波罗行纪》载:某府位于东南和东方之间的方向，靠近被黄河夺占的淮河下游故道，是蛮子国(元朝蒙古统治者对被征服汉族地区的称呼)的门户。其过境的船舶舟楫，川流不息。这里盐产量极其丰富……通过大运河将货物运销各地。该府位于图 2 中的



图 2

A.①B.②C.③D.④

5.万历年间，礼科给事中张问达上书弹劾李贽:“...以卓文君为善择佳偶，以秦始皇为千古一帝，以孔子之是非为不足据。”材料反映李贽

- A.继承心学，强调主观能动性
- B.提倡平等，违背主流价值观.
- C.反对传统，蔑视权威和教条
- D.追求个性，倡导良知和童心

6. 1853 年太平天国颁布了《天朝田亩制度》，提出“有田同耕”的口号。可是 1861 年在太平天国占领区内，有地方政府发布告示招徕流亡地主回乡收租，并“令各乡官设局照料”。政策的变化表明太平天国

- A.借助传统政策维护自身统治
- B.不具有反封建的性质
- C.失败的根本原因是财政危机
- D.蜕化为地主阶级政权

7.洋务名臣张之洞在武昌创办早期工业区“布纱丝麻”4 局，是当时中国中部地区最大的纺织企业群。在湖北织布局开张时，张之洞为其题写的楹联内容最有可能是

- A. “为民生谋福祉:为国家争利权”
- B. “布衣兴国:蓝缕开疆”
- C. “枢机之发，动乎天地:衣被所及，遍我东南”
- D. “兴办自我:利归于民”

8.袁世凯任山东巡抚时曾于某日接买办官僚盛宣怀电报:“粤、闽、浙、长江各省已与各国商定互相保护，各领事询山东如何。或以各国牵制一国何如?但须先任保护各国商民，盖与岷、香二帅商之。”袁世凯接电报后欣然同意加入互保。该事件表明

- A.清政府统治已经土崩瓦解
- B.清政府地方已实行自治

C.南方与中央政府分庭抗礼

D.清政府中央权威已式微

9.康有为据《公羊传》的“三世说”提出：“社会历史进化是沿着据乱世——升平世——太平世的轨道，由君主专制到君主立宪，再到民主共和，一世比一世文明进步。”其后孙中山也指出：“共和者，我国治世之神髓，先哲之遗业也。我国民之论古者，莫不倾慕三代之治。”两人都

A.借助传统文化阐述民主思想

B.对儒家思想内涵进行修正

C.以传承儒家政治理想为宗旨

D.推崇民主共和的治国理念

10.在国民党中央某次会议上，孙科、冯玉祥等人主张：自民国十六年北伐以后十年内，历次政变，所有一切政治犯，无论已被逮捕或尚在通缉判决，应由国府明令予以特赦。该会议

A.导致国民党内部分裂

B.制定“攘外必先安内”政策

C.加剧国共两党的矛盾

D.推动抗日民族统一战线建立

11. 建国初期，针对图 3 所反映的问题，陈云发布密令：“(甲)目前抢购风盛时，我应乘机将冷货呆货抛给投机商，但不要给其主要物资。(乙)等到收缩银根、物价平稳，商人吐出主要物资时，我应乘机买进。”密令表明中共



图 3

A.建立了计划经济体制

B.终结了恶性通货膨胀

C.运用了市场价值规律

D.统一了全国财政管理

12. 20 世纪五六十年代，党中央果断决定研制“两弹一星”，重点突破国防尖端技术，并确定我国国防尖端科技的发展要坚持自力更生为主。这一决策

A.得益于“双百方针”的贯彻

B.基于严峻的国际形势

C.推动了“一五计划”的实施

D.改变产业不均衡状态

13. 十一届三中全会以后，党和国家开展组织路线的拨乱反正，平反冤假错案工作开始按照实事求是、有错必纠的原则，加快了工作步伐。到 1982 年年底，全国共平反、纠正大约 300

万千部的冤假错案。该举措

- A.为改革开放奠定了社会基础和群众基础
- B.开启了我国社会主义现代化建设新时期.
- C.标志社会主义民主政治建设进入新阶段
- D.恢复中国共产党民主集中制的优良传统.

14. 图 4 为建国以来我国公共图书馆发展柱状图



图 4 1949-2008 年我国公共图书馆个数

该图反映了我国公共图书馆建设

- A.旨在加强文献的保护
- B.提供各领域知识
- C.有助于推动社会教育
- D.传播了现代文化

15. 19 世纪末 20 世纪初，埃塞俄比亚皇帝号召人民抗击侵略者，保卫国家的独立;亚洲掀起了反帝反封建的民族民主运动的新高潮;欧洲先进无产阶级开始夺取政权的斗争。这种差异说明

- A.殖民体系形成引发民族解放运动
- B.经济发展水平影响政治斗争
- C.无产阶级革命进入夺取政权阶段
- D.世界历史发展进入全新时期

16. 图 5 为钱乘旦所著《世界现代化进程》中的部分目录.

第六章	自由主义的工业化模式 英国的工业化—法国的工业化—美国的工业化
第七章	统制式的工业化模式 德国的工业化—日本的工业化—俄国的工业化
第八章

图 5

据此推断，第八章的标题最有可能是

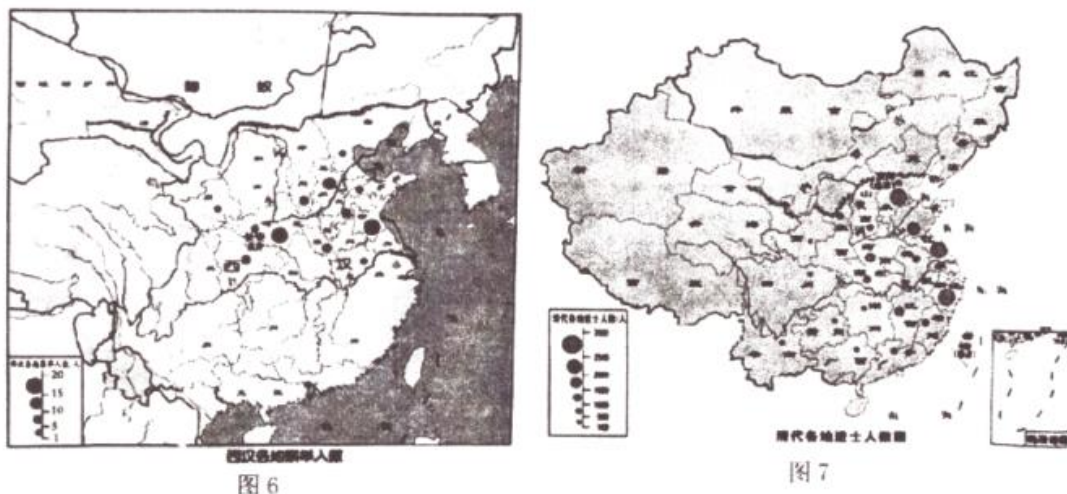
- A.第三世界国家的工业化
- B.摆脱专制走向民主
- C.走出中世纪:现代化准备阶段

D.计划指令型工业化

二、非选择题:本大题共4小题,共52分,其中17题14分,18题13分,19题12分,20题13分。

17.(14分)阅读材料,完成下列要求。

材料一



——摘编自《普通高中历史地图册》

材料二 工业革命带来的生产力水平的大提高导致政府管理职能的膨胀,政府面临着许多新课题……工业革命犹如经济魔棍,点化出了19世纪中叶英国政治改革的浪潮,选举与考试相配套的文官制度由此诞生了。…资产阶级兴起之时就提出的天赋人权、人。人平等、主权在民的思想经过几百年的发展,已经深入人心。人们开始崇尚理性,反对等级制度和封建特权,追求自由竞争和机会均等。

——摘编自鲍红信《英国近代文官制度的建立》

(1)据材料一并结合所学知识,概括从汉朝至清朝前期我国人才选拔的变化趋势。(8分)

(2)据材料二并结合所学知识,指出中国古代科举制与英国近代文官制度产生背景的不同。(6分)

18.(13分)阅读材料,完成下列要求。

材料一 由于新旧民主革命的交替、革命道路的曲折,在20世纪上半叶的中国,不是出现一次革命高潮,两次革命高潮,确是三次革命高潮……它们是近代中国出现的政治革命高潮,都要求全局性的变革。它们的依次发生,在中国近代史上都是划时代的,反映了政治上、思想上新陈代谢的快速步骤。

材料二毛泽东指出:敌我力量严酷较量及其消长的历程就是“腐朽的大的力量要让位给新生的小的力量,力量小的要变成大的,因为大多数人要求变。”……中国近代革命的过程就是中国人民“斗争、失败,再斗争、再失败,直至胜利”的过程。

——均摘编自陈旭麓《关于中国近代史线索的思考》

(1)据材料一并结合所学知识,指出“三次革命高潮”的名称。(3分)

(2)概括材料二的观点,结合材料及所学知识对其进行论述。(10分)

19.(12分)阅读材料,完成下列要求。

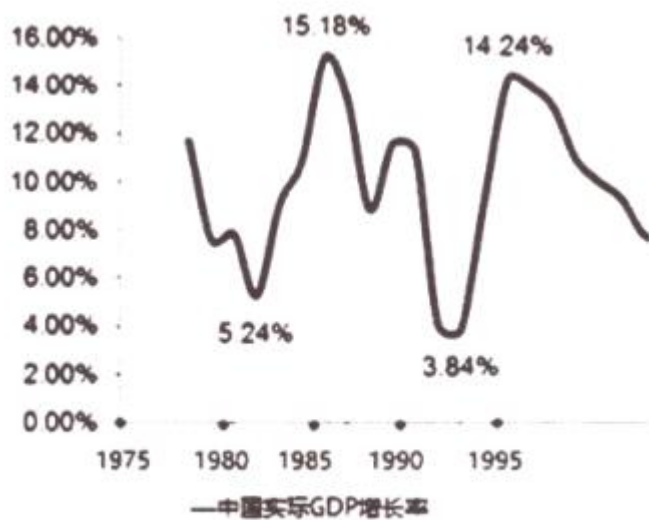


图 8

——摘编自《新中国成立 60 周年经济社会发展成就回顾系列报告之二》

(1)结合所学知识，分析图 8 中国实际 GDP 增长率的两个峰值出现的原因。(6 分)

(2)结合所学知识，归纳影响我国经济发展的因素。(6 分)

20.(13 分)8 月 24 日，日本政府无视国际社会的强烈质疑和反对，单方面强行启动福岛核事故污染水排海。同日，中国知名画师乌合麒麟发布名为《与人类同归于尽吗混蛋》的新图，引发关注。这幅作品描绘了跪在近海洋面上的一头巨兽，画面下方以日文和英文标注着“2023 年 8 月 24 日，罪兽开始了对全世界的报复”。



图 9

提取漫画中的相关信息，并结合所学知识加以解读。(要求:明确列出所提取的信息，史论结合，条理清晰)