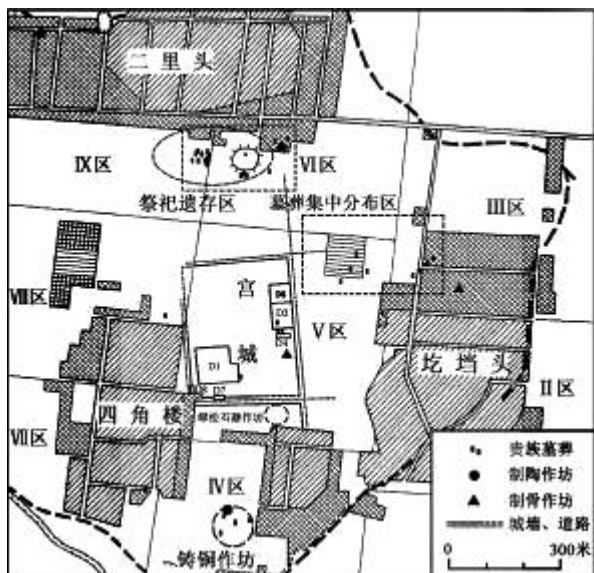


2024 届高三期初学业质量监测试卷

历史

一、选择题：本大题共 20 题，每题 3 分，共计 60 分。在每小题列出的四个选项中，只有一项最符合题目要求。

1. 下图为某一文化遗址重要遗存分布图，据图可知当时（ ）



- A. 形成了多元的文明格局
- B. 早期国家特征已有显现
- C. 阶级分化现象开始出现
- D. 青铜铸造行业相当发达

2. 公元前 597 年，楚国在邲之战大胜。有人建议楚庄王将晋军的尸骨筑成京观，向后世展示武功。庄王却引用《周颂》的诗句，说有“禁暴、戢兵（藏兵）、保大、定功、安民、和众、丰财”七德才称得上“武”，自己一条也不具备，有什么可以向后人展示的呢？这反映出楚王（ ）

- A. 认同华夏文化
- B. 维护礼乐制度
- C. 确立霸主地位
- D. 谋求国家统一

3. 春秋时期，一些贵族因为种种原因往往离弃宗国，避入他邦，重新入仕，加入到异姓大夫的行列中。战国时期，更有苏秦这样的“游士”背井离乡、四处游说，以寻求统治者的赏识，实现自己的政治抱负。这些现象表明该时期（ ）

- A. 阶层流动成为常态
- B. 选官注重个人才能
- C. 宗法体制遭到破坏
- D. 变法改革渐成潮流

4. 在汉代，郡国在每年年终时，要将记载本地生产、税收、户口、刑狱等情况的计簿由上计吏携到京师上计，备受查询。郡国上计吏常驻首都，参加朝会及其他大典，了解朝廷的指示，同时备询政俗，向中央反映郡国的情况。这说明汉代（ ）

- A. 郡国长官行政权力削弱
- B. 朝廷加强对地方的治理
- C. 监察巡视制度日益完善
- D. 官员考核程序逐渐规范

5. 唐玄宗于开元二十六年正式在皇宫内设立了翰林学士院，选任擅长文学的亲信充任翰林学士。翰林学士没有专门的办公场所和属员，不计官阶品秩，主要负责起草军国大事的诏制，而中书省官员则负责起草对一般臣僚的任

免及例行文告。唐代翰林院的设立（ ）

- A. 提高了三省的工作效率
- B. 实现了行政权的合理分工
- C. 扩大了任用宰相的范围
- D. 加强了皇帝对朝政的控制

6. 宋代条令规定，在田产交易前，买主应通过中人验证卖主的土地所有权凭证。订立土地买卖契约时，要明确写明田产的四至，亩数、价钱及交易年月，地契上要有卖方、中人的签章。购买土地需用现钱交易。立契付钱后，买卖双方还须把契约送到官府验证、盖印。由此可知，宋代（ ）

- A. 通过立法规范地权转移
- B. 地方政府主持土地买卖
- C. 官府保护农村租佃关系
- D. 地主土地所有制受冲击

7. “东极三韩，南尽交趾……西逾于阗，北逾阴山，不知各几万里，驿传往来，不异内地。非与前代虚名羁縻，而异方物产邈不可知者比。”上述文字可用于说明（ ）

- A. 唐代中外交流的盛况
- B. 元代边疆治理水平的提高
- C. 明代朝贡贸易的发展
- D. 清代国家版图的最终奠定

8. 下表为 16—18 世纪中国金银比价表，表中数据的变化（ ）

年份	金银比价
1534	1 : 6.363
1622	1 : 8.00
1677	1 : 9.00
1741—1750	1 : 11.77

- A. 缘于经济重心南移的完成
- B. 受益于大西洋贸易网络的形成
- C. 利于商品流通规模的扩大
- D. 反映出传统小农经济日益衰微

9. 清朝前期，政府多次将官方修纂《明史》这一时政内容作为科举考试的策问试题，一批士子在策答中较为充分地阐发其史学见解，最终为官方《明史》的修纂所采纳。这从本质上反映了清朝统治者（ ）

- A. 注重舆论宣传
- B. 摒弃文化专制
- C. 提倡儒学治国
- D. 强化政治认同

10. 1873 年，英、美等五国公使联合照会清政府，要求觐见、呈递国书时行三鞠躬礼。清廷不同意，双方往复辩论数十次无果。李鸿章建议，中国与列强已订约，再不能用属国之礼相待，清廷采纳其建议，在礼仪问题上做出重大让步。清廷的“让步”说明其（ ）

- A. 放弃了闭关锁国政策
- B. 通过谈判解决国际争端
- C. 具备了近代外交意识
- D. 与各国的宗藩关系瓦解

11. 英国驻华公使被困在北京期间，英国驻上海代总领事致电英国外交大臣，认为局势严峻，英国必须迅速采取行动，如果准备同清廷断交，就应当立即与张之洞和刘坤一两位总督达成谅解，只要他们尽力维护和平，就能得到

英国政府的有效支持。英国外交官旨在（ ）

- A. 稳定本国在华的势力范围
- B. 维护列强在华北的利益
- C. 协助清廷镇压义和团运动
- D. 巩固清政府的统治根基

12. 下表反映了民国时期三个统计时段的民族工业平均增长率，对此解读正确的是（ ）

时期	1912—1920	1912—1936	1912—1949
增长率	13.4%	9.4%	5.6%

- A. 一战结束之后民族工业迅速萧条
- B. 国民政府时期工业发展陷于停滞
- C. 民国时期经济呈现持续下滑趋势
- D. 国际形势变化深刻影响经济发展

13. “俄罗斯打倒贵族……全世界为之震动……怒涛西迈，转而东行……旗南向，过黄河而到长江，黄浦汉皋，屡演活剧，洞庭闽水，更起高潮。天地为之昭苏，奸邪为之辟易。咳！我们知道了！我们觉醒了！”这段文字最有可能出自（ ）

- A. 辛亥革命时期的革命党人
- B. 五四运动时期的进步青年
- C. 北伐战争时期的共产党员
- D. 抗日战争时期的爱国军人

14. 1933年《东方杂志》发起畅谈“梦想中国”征稿活动，下图是征稿中出现的关键词汇及次数比例，该图信息折射出（ ）

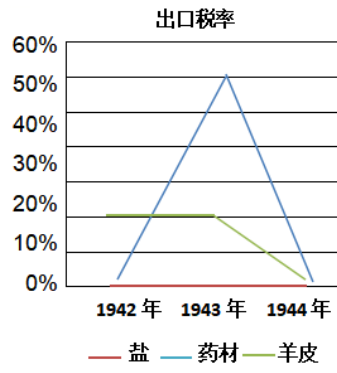
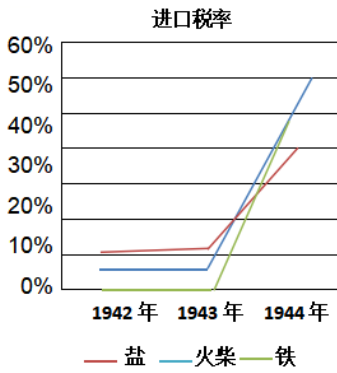


- A. 一二·九运动促进中华民族新觉醒
- B. 社会主义思潮已经成为主流思想
- C. 世界大战的爆发加剧了局势紧张
- D. 中国人具有强烈的民族忧患意识

15. “浙江大学、同济大学……师生们背井离乡，辗转奔波，常常要忍受饥饿和疲劳……艰辛难言。但师生们士气高昂，一路高唱《在松花江上》等救亡歌曲……他们在沅陵演出的《中华民族的子孙》《民族萌芽》等剧，轰动了整个山城。”师生们的壮举（ ）

- A. 声援了东北民众的局部抗战
- B. 推动了西安事变的和平解决
- C. 激发了全国人民的抗战热情
- D. 掀起了爱国民主运动的高潮

16. 下图为陕甘宁边区1942年到1944年实施的部分商品贸易税率的调整情况。边区税收政策的调整有助于（ ）



- A. 促进内迁工业的发展
- B. 破坏日军的资源掠夺
- C. 打击官僚资本的压榨
- D. 缓解边区的财政困难

17. 1949年底，第一次全国教育工作会议指出，老解放区教育，以巩固与提高为主；新解放区教育则是争取团结改造知识分子。此外，必须维持原有学校，逐步改善。对中国人办的私立学校，一般采用保护维持，加强领导，逐步改造的方针。这一会议精神（ ）

- A. 有利于新中国教育体系的完善
- B. 服务于社会主义经济建设
- C. 体现了新民主主义教育的性质
- D. 捍卫了新中国的教育主权

18. 1951年，全国掀起订立爱国公约的热潮。工人们提出“工厂就是战场、机器就是枪炮，多出一件产品就是增强一分杀敌力量，减少一件废品就是消灭一个敌人”的口号，不断创造出生产纪录。到当年10月，全国有1000万以上的农民参加爱国丰产竞赛。上述运动的开展（ ）

- A. 使生产资料所有制发生变革
- B. 有力地支援了抗美援朝战争
- C. 鼓舞人民投身社会主义建设
- D. 推动“一五”计划提前完成

19. 下图是创作于1964年的年画《姑嫂选笔》，该年画（ ）



- A. 展示了国民经济调整的丰硕成果
- B. 描绘了农民加入合作社后的喜悦
- C. 倡导了争做时代新人的社会风尚
- D. 反映了女性成为国家建设的主力

20. 下表罗列了1949—1999年间，中国在不同时期的外交基本战略。下列按时间顺序对其进行排列正确的是（ ）

甲	以联合国为中心的多边外交
乙	“一边倒”

丙	“一条线、一大片”（联美反苏）
丁	“两个拳头打人”（反美反苏）

A. 甲—丁—丙—乙

B. 乙—丁—丙—甲

C. 乙—丙—丁—甲

D. 乙—甲—丙—丁

二、非选择题：本大题共 3 题，满分 40 分，请在相应的答题区域内作答。

21. 阅读材料，完成下列要求。

材料 以朝气蓬勃的世俗地主阶级知识分子为主体，隋唐文化显示出无所顾忌的宏大气派。“唐人歌诗，其于先世及当时事，直辞咏寄，略无避隐”，创造出一个全民族诗情郁勃的时代，胡舞龟兹曲风靡长安，“洛阳家家学胡乐”。而“蕃人旧日不耕犁，相学如今种禾黍”的现象亦不罕见。南亚的历法、中亚的乐舞、西亚和西方世界的医术及马球运动等，如同“八面来风”，一涌而入。阎立本、吴道子等著名画家从佛画的绚丽色彩与宗教题材中汲取营养，大大提高了民族绘画的技巧与表现力。与此同时，隋唐文化向外传递出其独有的“智慧之光”，逐渐形成一个以中国本土为中心，以中国文化为轴心的东亚文化圈。

——摘编自张岱年、方克立《中国文化概论》

(1) 据材料，概括隋唐文化气派宏大的主要表现，并结合所学知识，说明其历史背景。

(2) 据材料并结合所学知识，简析隋唐文化的独特贡献。

22. 阅读材料，完成下列要求。

材料 20 世纪以来，民众要求收回利权，发展民族物流业的呼声日益高涨。关税谈判在辛亥后经过近 20 年的外交博弈基本实现了目标。“商业发达须赖交通便利，方可振兴商务”成为共识，民间商会团体及绅商们也积极抵制借外债筑路，从基层响应政府自主筹款修筑铁路的政策。如东北呼海铁路拟定官商合办章程和铁路章程，共筹资本约 2000 万元，1929 年建成后既便利了周边地区粮食和商品的运输，更减少了商品被土匪抢掠的可能。为弥补铁路运输的局限，全国经济委员会不仅规划督造各省公路，还积极推进实施铁路与公路联运计划，到 1935 年底，共完成通车路线计有 9000 余公里。为提供必要的人员储备，各方还兴办了汽车机务人员训练所、吴淞商船专科学校等。至抗战爆发前，经交通部、铁道部及轮船招商局的共同努力，“全国基本出现了以铁路为基线，以国营招商局为协办主体的水陆联运网络”。

——摘编自熊辛格《中外约章与中国近代物流业的嬗变（1840—1937）》

(1) 据材料，归纳近代民族物流业得以发展的条件。

(2) 据材料并结合所学知识，分析近代民族物流业发展的重要影响。

23. 阅读材料，完成下列要求。

材料 中国共产党的成立，深刻改变了中国革命的性质和革命的成功路径。《井冈山土地法》和《兴国土地法》先后颁布，使广大农民获得了土地。为了保卫分得的土地，农民纷纷支持革命、参加红军，九一八事变后，中国的革命形势发生了根本变化，党确立了抗日民族统一战线的土地政策。在党的政策的感召下，抗日根据地的

农民群众，同仇敌忾，支援抗战。解放战争时期，党在解放区实施《中国土地法大纲》。解放战争的战场上出现了几百万农民推着小车运送粮食支援前线的动人场面，为古今中外战争史上所罕见。

新中国成立后，党和政府进一步摧毁了新解放区封建土地所有制，使得约3亿无地少地的农民无偿地获得了约7亿亩土地，有农民说：“我今年八十岁啦，经过几个朝代，没见过有这样的好领导！”到1956年，我国基本完成社会主义改造，建立起社会主义制度。70年代末，农业经济的发展再次得到激活，每家每户“男女老少一起上，出勤率和劳动工效之高是前所未有的”。除了粮食产量大幅提高，种植、养殖等农副业生产也得到大力发展。党的十八大以来，随着精准扶贫战略的推进，许多农村家庭摆脱了贫困，收入提高、生活改善。一些农村地区已基本构建起比较科学、规范、有效的治理体系，农村基层干部的现代化治理能力也有所提高，并赢得了农民的赞誉。

——以上材料摘编自张茜、徐家林《中国农民政治认同百年演进的规律与经验》

(1) 据材料并结合所学知识，概括中国共产党在不同历史时期推动农民政治认同提升的努力。

(2) 据材料并结合所学知识，简析中国共产党推动中国农民政治认同提升的重要意义。