

## 2023—2024 学年高中三年级摸底考试历史试题

一、选择题：本大题共 15 小题，每小题 3 分，共 45 分。在每小题给出的四个选项中，只有一项是符合题目要求的。

1. 《孔氏家语》记载：孔子任鲁国大司寇时提出“隳三都”的政治主张：“家不藏甲，邑无百雉之城，古之制也。今三家，过制，请皆损之。乃使季氏宰仲由隳三都。”孔子“隳三都”旨在（ ）

- A. 贯彻家国一体的政治理念
- B. 遵守天下共主的分封制度
- C. 维护等级森严的礼乐秩序
- D. 缔造四方臣服的专制主义

【答案】C

【详解】本题是单类型单项选择题。根据主题干的设问词，可知是目的题。时空是：春秋时期中国。材料引文大意是，孔子主张：卿大夫的家中不能私藏兵器铠甲，封地内不能建筑一百雉规模的都城，这是古代的礼制。当前季孙氏、叔孙氏、孟孙氏三家大夫的城邑都逾越了礼制，请削减他们的势力。于是派季氏家臣仲由拆除三家大夫的城池。可见孔子“隳三都”旨在维护等级森严的礼乐秩序，C 项正确；家国一体是西周分封制和宗法制的特点，材料所述为礼乐制，排除 A 项；材料体现主张恢复西周等级森严的礼乐制度，而非遵守分封制度，排除 B 项；加强君主专制是法家的主张，排除 D 项。故选 C 项。

2. 下面两图为中国古代重要工程建设。它们的修筑（ ）

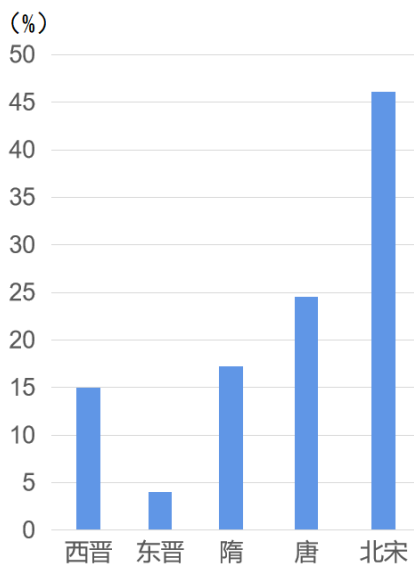


- A. 抵御了外族侵扰
- B. 有利于小农经济
- C. 促进了南北交流
- D. 加强了皇权专制

【答案】B

【详解】本题是单类型单项选择题。据本题次题干的设问词，可知这是影响题。据本题时间信息可知准确时空是：古代（中国）。结合所学可知，图一是长城，图二是大运河，长城抵御了北方游牧民族的南下侵扰，有利于小农经济的发展，大运河沟通了南北，有利于巩固统一、促进南北经济交流，有利于小农经济的发展，B 项正确；大运河并没有起到抵御了外族侵扰的作用，排除 A 项；大运河促进了南北交流，不是长城的作用，排除 C 项；长城与大运河并没有起到加强皇权专制的作用，排除 D 项。故选 B 项。

3. 下图呈现的是西晋至北宋出身寒门子弟入朝为官的比例。这反映了（ ）



- A. 统治基础的扩大  
B. 崇尚教育的思想  
C. 儒家思想是主流  
D. 重文抑武之风气

【答案】A

【详解】本题是单类型单项选择题。据本题主题干设问词，可知这是本质题。据本题时间信息可知准确时空是西晋至北宋时期（中国）。据图表可知，西晋至北宋平民子弟在官员群体中所占比例持续增加。结合所学可知，这一变化主要归功于科举制的实行，科举制不注重家世门第，而是以才能作为选官的标准，使平民子弟通过考试可以仕途，大大提高了平民子弟在官员群的比例，这有利于扩大封建王朝的统治基础，A项正确；材料主要反映了西晋至北宋时期官员中寒门出身的子弟所占比重越来越高，据材料无法得出这一时期崇尚教育，排除B项；C项说法符合题干时段的史实，但是材料无法体现，排除C项；材料主要反映了西晋至北宋时期官员中寒门出身的子弟所占比重越来越高，据所学可知这主要和科举制的实行导致统治基础扩大有关，据材料无法得出当时重文抑武的社会风气，排除D项。故选A项。

4. 明初设置的巡抚，以京官监视巡查地方，在处理地方事务时往往事半功倍，能够更好地统领地方，自设立起便注定了向地方官嬗变的“命运”，而专制君主势必再派“近官”对其制衡。这体现了（ ）

- A. 中央集权强化的要求  
B. 地方行政效率的提高  
C. 中央对地方的不信任  
D. 政府监察体系的强化

【答案】A

【详解】本题是单类型单项选择题。据本题主题干的设问词，可知这是本质题。据本题时间信息可知准确时空是：明朝（中国）。明初设置巡抚，深受君主信赖，专制君主势必再派“近官”对其制衡，加强对地方的控制，说明巡抚的设置是中央集权强化的要求，A项正确；材料不涉及行政效率提高，排除B项；材料无法体现中央对地方的不信任，排除C项；根据“可以得到更多授权，更好地统领地方”可知，政府的主要目的是加强对地方统治，并非完善监察体系，排除D项。故选A项。

5. 19世纪70年代，日本阻止琉球国向中国进贡。有地方督抚在上奏中强调：琉球向来是中国的藩属，日本“不应阻贡”，中国使臣应邀请西方各国驻日公使，“按照万国公法与评直曲”。这说明（ ）

- A. 中外纠纷开始依据万国公法  
B. 中国传统朝贡体系已经解体  
C. 地方督抚开始介入朝廷外交  
D. 近代外交观念已经影响中国

【答案】D

【详解】本题是单类型单项选择题。根据主题干的设问词，可知是本质题。时空是：晚清中国。有地方督抚主张利用国际公法和国际舆论解决日本阻止琉球国向中国进贡的问题，表明对国际法和近代外交规则有所了解，反映近代外交观念已经影响中国，D项正确；材料只提及官员主张，未提及主张是否被采纳，且从材料看不出“开始”，排除A项；19世纪70年代，朝鲜、越南仍然是中国的藩属，传统朝贡体系尚未完全解体，排除B项；材料中地方督抚只是提出建议，不可认为是“介入”，且从材料看不出“开始”，排除C项。故选D项。

6. 1900年，慈禧太后向西方十一国宣战后，铁路大臣盛宣怀将慈禧太后宣战诏书扣押；李鸿章覆电慈禧“此乱命也，粤不奉诏”；湖广总督张之洞随后提出“李鸿章大总统”方案。由此可见（ ）

- A. 中央地方矛盾白热化  
B. 民主共和已深入人心  
C. 内轻外重政局已出现  
D. 满汉民族矛盾渐突出

【答案】A

【详解】本题是单类型单项选择题。据本题主题干设问词，可知这是推断题。据本题时间信息可知准确时空是1900年（中国、西方）。根据材料可知，1900年，慈禧太后向西方十一国宣战后，盛宣怀、李鸿章、张之洞等地方官员不仅不奉诏，反而提出“李鸿章大总统”方案，这说明当时中央地方矛盾白热化，A项正确；辛亥革命后，民主共和观念深入人心，题干涉及时间是1900年，排除B项；材料未体现内轻外重政局，排除C项；材料未涉及满汉民族矛盾，排除D项。故选A项。

7. 全面抗战爆发后，毛泽东代表中国共产党提出依据新三民主义的建国主张。他指出：“共产主义是在革命发展的将来阶段实行的，共产主义者在现在阶段并不梦想实行共产主义，而是要实行历史规定的民族革命主义和民主革命主义”。这反映了（ ）

- A. 国共合作的政治基础  
B. 抗日民族统一战线形成  
C. 新民主主义理论形成  
D. 共产党政策的灵活性

【答案】D

【详解】本题是单类型单项选择题。根据主题干的设问词，可知是本质题。时空是：抗日战争时期（中国）。抗日战争时期，中国共产党提出依据新三民主义的建国主张，目的是维护国共合作和抗日民族统一战线，体现中国共产党能够根据革命形势的变化灵活调整政策，D项正确；新三民主义是第一次国共合作的政治基础，排除A项；1937年9月22日，国民党中央通讯社发表了中国共产党提出的国共合作抗战宣言。第二天，蒋介石发表谈话，承认中国共产党的合法地位。至此，在中国共产党推动下，国共第二次合作实现，抗日民族统一战线正式形成，排除B项；1940年，毛泽东发表了《新民主主义论》，标志着新民主主义革命理论成为科学的理论体系，排除C项。故选D项。

8. 下表是我国某一时期企业的利润分配情况，据此推断这一历史时期是（ ）

国家税 收	职工福 利	企 业 公 积 金	资 本 家 红 利
34.5%	15%	30%	20.5%

- A. 公私合营的合作方式  
B. 国家至上的经营理念  
C. 计划经济的管理体制  
D. 关注民生的企业文化

【答案】A

【详解】本题是单类型单项选择题。根据主题干的设问词，可知是正向题。时空是：20世纪50年代中国。结合所学知识分析题干信息，1953-1956年，国家对农业、手工业和资本主义工商业进行社会主义改造。对资本主义工商业的改造经历了初级国家资本主义、个别企业公私合营、全行业公私合营三个阶段。在个别企业公私合营阶段国家采用“四马分肥”的利润分配，企业利润分为国家征收的所得税金、企业公积金、职工福利奖金和资方的股息红利四部分，A项正确；企业的利润分成四部分，而非大部分归国家，不能体现国家至上，排除B项；材料未提及对生产、资源分配以及产品消费进行计划，看不出计划经济体制，排除C项；材料反映对资本主义工商业的社会主义改造，“关注民生”与材料主旨不符，排除D项。故选A项。

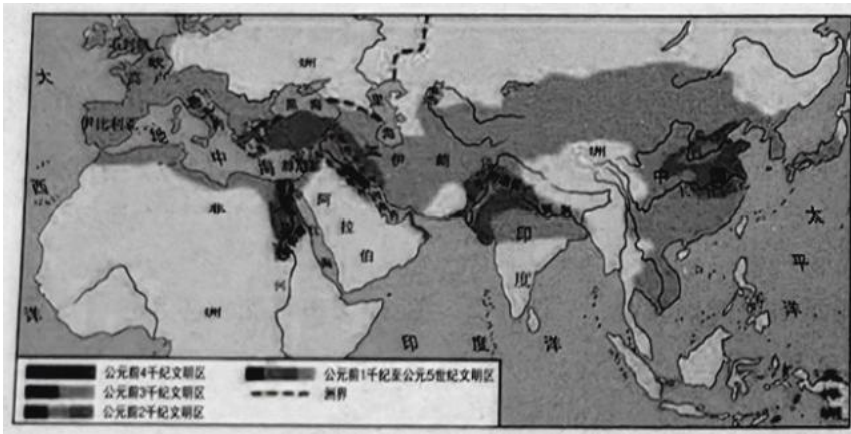
9. 新中国工资制度自1956年改革以后，在近30年中基本没有大的变动。1978年9月，中共中央发出通知，要求各地区、各部门组织力量调查研究，提出工资改革意见……随后，中央决定于1985年进行工资改革，其原则：企业职工的工资和奖金要同企业的经济效益高低、个人贡献大小挂钩，职工工资总额同企业经济效益按比例浮动等等。据此可知（ ）

- A. 现代企业制度已经建立  
B. 社会主义市场经济体制确立  
C. 国企改革注重价值规律  
D. 改革开放后工作重心转移

【答案】C

【详解】本题是单类型单项选择题。根据主题干的设问词，可知是推断题。时空是：1985年中国。1985年工资改革规定，企业职工的工资和奖金要同企业的经济效益高低、个人贡献大小挂钩，体现了对价值规律和市场机制的运用，有利于调动职工积极性和激发企业活力，C项正确；1993年11月中共十四届三中全会审议并通过了《中共中央关于建立社会主义市场经济体制若干问题的决定》，指出：建立现代化企业制度，是发展社会化大生产和市场经济的必然要求，是我国国有企业改革的方向，排除A项；21世纪初社会主义市场经济体制在我国基本确立，排除B项；1978年中共十一届三中全会作出把全党工作着重点转移到社会主义现代化建设上来、实行改革开放的历史性决策，排除D项。故选C项。

10. 下图展示的是公元前4000年到公元5世纪的亚欧非文明的发展。这说明（ ）



- A. 古代文明呈现多元特征
- B. 地理环境决定文明类别
- C. 世界市场已经初具雏形
- D. 多种途径促进区域交流

【答案】A

【详解】本题是单类型单项选择题。根据主题干的设问词，可知是本质题。时空是：古代世界。题干图片为古代主要文明示意图，据图片内容并结合所学可知，最初的文明分别出现于西亚的两河流域、北非的尼罗河流域、南亚的印度河和恒河流域、中国的黄河和长江流域，以及欧洲巴尔干半岛南部和爱琴海地区。由于生产力发展水平和交通条件的限制，古代各个文明基本独立发展，表现出明显的多元特征，A项正确；地理环境影响而非决定文明的产生发展，排除B项；15-16世纪新航路的开辟结束了世界各地相对孤立的状态，各地的文明开始汇合交融，日益连成一个整体。欧洲的商人们开始直接同世界各地建立商业联系，以西欧为中心的世界市场的雏形开始出现，排除C项；材料看不出不同文明通过贸易、移民、战争等途径进行交流，排除D项。故选A项。

11. 15世纪末，一些来自人们刚刚知道的地方的“奇物”出现在欧洲，刺激了学者们的研究欲望和收藏家们的好奇心。17世纪，一些思想家和科学家纷纷倡议建立博物馆。18世纪40年代起，英、法等国相继建立起自然史博物馆，当时的博物馆追求珍奇物品和标本的齐全，陈列繁杂。博物馆的建立（ ）

- A. 源于近代自然科学的产生
- B. 推动了启蒙运动不断深入
- C. 反映了科学革命迅猛发展
- D. 折射出西欧国家的殖民扩张

【答案】D

【详解】本题是多类型单项选择题。根据次题干的提示词，可知是本质题、原因题、影响题。时空是：17-18世纪世界。结合所学知识可知，18世纪欧洲国家的博物馆追求珍奇物品和标本的齐全，主要和西欧国家对外殖民扩张，从世界各地带回陈列品有关，D项正确；博物馆的建立与近代自然科学的发展密切相关，但生产力的发展和科学文化的进步才是博物馆建立的根本原因，排除A项；材料未提及博物馆建立与启蒙运动的关系，排除B项；材料未提及博物馆展现科学革命成果，排除C项。故选D项。

12. 玻利瓦尔在1819年委内瑞拉国会上的发言中说：“我们要牢记我们的人民既不是欧洲人，也不是北美人，不是出自欧洲，而是更接近非洲和美洲的混合……无法肯定我们到底属于人类哪一个家庭。……委内瑞拉一直是、仍然是、也必须永远是共和国。……可以这么说，为了将各个阶层、各种政治观点和各种公共习俗重塑为一个整体，我们需要平等。”他力图（ ）

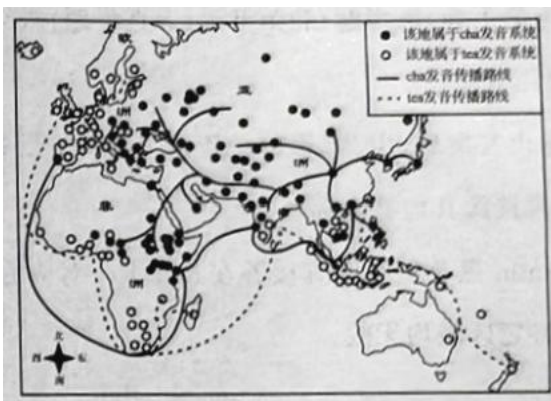


- A. 实现美洲各国的独立
- B. 实现美洲国家的联合
- C. 传播欧洲的启蒙思想
- D. 强调拉美的民族认同

【答案】D

【详解】本题是单类型单项选择题。据本题主题干设问词，可知这是本质题，时空是1819年的委内瑞拉。根据材料“我们要牢记我们的人民既不是欧洲人，也不是北美人，不是出自欧洲，而是更接近非洲和美洲的混合……可以这么说，为了将各个阶层、各种政治观点和各种公共习俗重塑为一个整体”可知，玻利瓦尔针对拉美种族众多，阶级复杂的情况，强调拉美民众是一个整体，体现了增强民族认同的意图，D项正确；材料并未涉及美洲各国独立的相关信息，不符合题意，排除A项；“美洲国家的联合”与题干信息不符，排除B项；材料并未强调启蒙思想对玻利瓦尔的影响，并不是强调启蒙思想的传播，排除C项。故选D项。

13. “茶”的两大发音系统在亚、非、欧三大洲分布示意图，这种分布差异形成的主要原因是（ ）



- A. 茶叶贸易路线的不同
- B. 地区方言发音的差异
- C. 海陆丝绸之路的推动
- D. 欧洲殖民扩张的影响

【答案】A

【详解】本题是单类型单项选择题。根据主题干的设问词，可知是原因题。时空是：古代和近代世界。根据材料中的图例及传播路线可知，cha的发音主要分布在东亚、东南亚、中亚、西亚、非洲北部和东部、东欧、葡萄牙。tea的发音主要分布东南亚南部（马来群岛），非洲南部和西部海岸、西欧和北欧等。结合所学，中国古代丝绸之路发达，茶叶从中国长安等地出发，经陆上、海上丝绸之路传播到东亚、东南亚、中亚和西亚，又转销到东欧和东非地区。cha的发音也随之传入这些地区。新航路开辟后，欧洲主要商路和贸易中心从地中海沿岸转移到大西洋沿岸，形成了新的海上茶叶贸易商路。葡萄牙主要从澳门进口茶叶，沿新航路将茶叶引入本土及其海外殖民地，在这些地区形成了cha的发音。荷兰、英国多从厦门进口茶叶，并沿新航路将茶叶引入南非、西非和西欧地区，于是由厦门方言形成的tea的发音伴随西欧商人和殖民者的脚步传到这些地区。综上，材料所述“茶”的发音分布形成的主要原因是茶叶贸易路线的不同，A项正确；方言发音只能解释中国境内“茶”的发音差异，不能解释中国以外地区“茶”的发音差异，排除B项；tea的发音主要是通过近代以后开辟的新航路传播的，排除C项；cha的发音经陆上、海上丝绸之路传播到东亚、东南亚、中亚和西亚，排除D项。故选A项。

14. 1651年英国颁布了《航海条例》，对进出英国及其殖民地的货物的运输进行管控，这是近代英国议会通过的第一个保护航海贸易垄断的法案；但在1849年，英国议会却宣布废除了《航海条例》。这反映了（ ）

- A. 代议制民主的发展完善  
B. 英国国际地位的变化  
C. 殖民地独立斗争的高涨  
D. 英国海洋霸权的衰落

【答案】B

【详解】本题是单类型单项选择题。据本题主题干设问词，可知这是本质题，时空是1651年至1849年的英国。根据材料“1651年英国颁布了《航海条例》，……这是近代英国议会通过的第一个保护航海贸易垄断的法案；但在1849年，英国议会却宣布废除了《航海条例》。”及所学可知，英国起初制定《航海条例》是为了控制殖民地经济的发展，独占殖民地市场，禁止殖民地和其他国家直接进行贸易。随着工业革命的完成，英国的国家实力不断增强，为了进一步扩大海外市场，开始实行自由贸易政策，废除了保护航海贸易垄断的法案。由此可见，英国国际地位的提升是其对外贸易政策调整的重要因素，B项正确；1689年英国议会颁布了《权利法案》，奠定了英国君主立宪制的法律基础。材料未涉及英国代议制民主完善的相关信息，不符合题意，排除A项；材料未涉及殖民地的斗争对英国贸易政策的影响，不符合题意，排除C项；工业革命的完成进一步增强了英国的海洋霸权地位，排除D项。故选B项。

15. 自20世纪80年代末期起，美国政府武力入侵拉美的同时，更侧重于用“民主化”与“和平演变”的手段干预拉美地区事务。1999年，美国政府推出“新干涉主义”，竭力推行美国的价值观和社会制度，充当“世界法官”。这反映了美国（ ）

- A. 战略重心从拉美转向世界  
B. 冷战策略做出战略调整  
C. 构筑利己的国际关系秩序  
D. 制造统治拉美的合法性

【答案】C

【详解】本题是单类型单项选择题。根据主题干的设问词，可知是本质题。时空是：20世纪80年代末期以来（美国）。美国用“民主化”与“和平演变”的手段干预拉美地区事务，推出“新干涉主义”来推行美国的价值观和社会制度，目的都是扩张美国的势力，构筑美国主导的国际关系秩序，C项正确；材料提及美国扩张势力的方式和策略有所调整，未提及战略重心转移，排除A项；1991年苏联解体，冷战结束。1999年美国政府推出的“新干涉主义”已不属于“冷战策略”，排除B项；“制造统治拉美的合法性”不能概括“推行美国的价值观和社会制度，充当‘世界法官’”等信息，排除D项。故选C项。

## 二、非选择题(本大题包括4小题，共55分)

16. 主题探究是历史学习的一个重要方法。小明在历史学习中了解到“中国古代经济重心至宋元时期完成南移”是史学界普遍认同的结论，为探究该主题，小明首先找到了以下材料。阅读材料，回答问题。

材料一 关中之地，于天下之三分之一，而人众不过什三。然量其富，什居其六。……楚越之地，地广人稀。

——(西汉)司马迁《史记·货殖列传》

材料二 西汉至北宋南方人口的变迁：

朝代	南方		北方	
	人口(户)	占全国户口数比例(%)	人口(户)	占全国户口数比例(%)
西汉	2470685	19.8	9985785	80.2
唐朝	3920415	43.2	5148529	56.8
北宋	11224760	62.9	6624296	37.1

材料三 本朝文物之盛，自国初至昭陵(宋仁宗)时，并从江南来，庆历间人才彬彬，号称众多……皆出于大江之南。

——宋人笔记《曲洧旧闻》

材料四 天下岁入粮数，南方 6890307 石，北方 5224393 石。江浙行省、江西行省占全国比重尤高，各约占 37% 和 10%。

——整理自(明)宋濂等《元史·食货志》

- (1) 谈谈材料一对于该主题研究的意义。
- (2) 相较于材料一，材料二至四提供了哪些探究该主题的新视角?并简要说明它们为什么可以做为该主题研究的史料。
- (3) 你认为该主题研究应遵循哪些基本原则?

**【答案】**(1) 该史料从经济总量的角度说明了西汉时期的经济重心尚在北方关中地区，这就为后期的经济重心南移提供了必要的历史比较对象。

(2) 新视角：人口、人才、赋税等角度。说明：随着人口的大量南迁，才会带来中国经济重心的南移；而经济重心的南移，必然导致南方赋税的增加，及文化南移带来的人才增加。(或者：人口、人才、赋税的增加是经济发展的重要表现，所以它们可以做为该主题研究的史料。)

(3) 全面的观点；多角度论证；文化是一个时代的反映。

#### **【小问 1 详解】**

本题是影响类材料分析题。时空是西汉中国。据材料“关中之地，……其富，什居其六。……楚越之地，地广人稀”可知该史料从经济总量的角度说明了西汉时期的经济重心尚在北方关中地区，这就为后期的经济重心南移提供了必要的历史比较对象。

#### **【小问 2 详解】**

本题是特点类材料分析题。时空是西汉至宋朝时期的中国。新视角：材料二反映西汉至北宋南方人口的变迁，材料三提及“江南……人才彬彬”，材料四反映宋朝时政府从南方征收的田税超过北方，这为探究经济重心南移提供了人口、人才、赋税等新视角。说明：结合所学，人口、人才、赋税能够反映经济社会发展情况，对比南北方在这些方面的情况能够反映经济重心南移的过程。

#### **【小问 3 详解】**



本题是认识类材料分析题。从人口、人才、赋税等多方面探究论证经济重心南移，启示我们要坚持全面的观点，多角度论证；南方文化发展和人才情况折射南方经济社会发展，表明文化是一个时代的反映。

17. 致远舰是北洋海军主力巡洋舰，1894年9月在甲午海战中沉没。战争结束后清廷颁布上谕，大力褒扬致远舰管带邓世昌，赐谥“壮节”，从优议恤。有挽联云“此日漫挥天下泪，有公足壮海军威”。阅读材料，回答问题。

材料一 致远药弹尽，适与倭船吉野值。管带邓世昌……谓倭规专恃吉野，苟沉是船，则我军可以集事(成事)，遂鼓快车，向吉野冲突。吉野即驶避，而致远中其鱼雷，机器锅炉迸裂，船遂左倾，顷刻沉没，世昌死之，船众尽殉。

——姚锡光《东方兵事纪略》(1897年)(此书多参考当时的公文、电报、私人信函等)

材料二 (致远舰)被1枚重炮弹……命中了水线。总之不管怎样，它开始严重倾斜，显然是受到了重创。该舰的管带……下定决心与敌人同归于尽，于是向一艘敌人最大的军舰冲锋，准备实行撞击。一阵重炮和机关炮弹的弹幕扫过他的军舰，倾斜更加严重了，就在即将撞上敌舰之际，他的船倾覆了。军舰从舰首开始下沉……所有舰员与舰同沉。

——镇远舰美籍雇员马吉芬的回忆(《世纪杂志》，1895年)

材料三 致远舰水下考古……由国家文物局水下文化遗产保护中心与辽宁省文物考古研究所通力合作，汇集全国水下考古专业人员，在丹东市政府的支持下，联合海洋勘测、潜水打捞等行业的技术力量，于2016年秋圆满完成致远舰考古调查任务。此次调查，也对致远舰的破损情况有了较准确的掌握，整体保存一般，钢板、锅炉零件因爆炸而抛离原来位置，火烧情况严重。考古发现外壳板保存完好……近艏部处发现保存完好的鱼雷引信、一些完好的弹药，均说明并未发生被鱼雷直接击沉或鱼雷舱中炮发生殉爆。致远舰……处于北洋舰队左翼最外围的位置，也是最容易成为日军集火攻击的对象……中炮进水后……一直坚持在战场上(考古揭示出大面积的火烧痕迹)。

——《致远舰水下考古调查报告》(2023年)

- (1) 分析指出材料一、二的史料价值。
- (2) 结合材料三，说明你所能确认的历史史实。

**【答案】**(1) 材料一为历史研究专著，且史料来源多为一手史料，对于了解致远舰沉没的相关细节有较高的史料价值；但应与其它史料相互对照使用。材料二为个人回忆，为亲眼所见，对于了解致远舰沉没的相关细节有较高的史料价值；但受个人局限，并不一定能够完全了解事件的真相，故应与其它史料参照使用。

(2) 致远舰中炮受创；出现锅炉爆炸；应系撞击敌舰与敌同沉；舰船沉海前坚持抗战。

### **【小问1详解】**

本题是特点类材料分析题。时空是近代中国。材料一姚锡光《东方兵事纪略》为历史研究专著，且史料来源主要是当时的公文、电报、私人信函等，多为一手史料，对于了解致远舰沉没的相关细节有较高的史料价值；但缺少现场见证人的描述，应与其它史料相互对照使用。材料二为镇远舰美籍雇员马吉芬的个人回忆，为亲眼所见，对于了解致远舰沉没的相关细节有较高的史料价值；但受个人主观影响和缺少印证，并不一定能够完全了解事件的真相，故应与其它史料参照使用。

### **【小问2详解】**

本题是特点类材料分析题。时空是近代中国。据材料“钢板、锅炉零件因爆炸而抛离原来位置，火烧情况严重”得出致远舰中炮受创，出现锅炉爆炸；据材料“向吉野冲突……顷刻沉没”“向一艘敌人最大的军舰冲锋，……他的船倾覆了”得出应系撞击敌舰与敌同沉，舰船沉海前坚持抗战。

18. 阅读材料，回答问题。

材料 1979-1988 年中国公立医院改革进程(摘要)

时间	名称	备注
1979 年	《关于加强医院经济管理试点工作的意见》	中华人民共和国建立后第一份明确提出医院经济的文件。该《意见》提出，医院试点方案与国企改革“放权让利”有一定相似性。
1981 年	《关于解决医院赔本问题的报告》	建议实行价格改革，对公费医疗和劳保医疗按不包括工资的成本收费，增加的开支由地方财政和企业单位负担；对城镇居民和农民的收费标准可以保持不变。
	《医院经济管理暂行办法(修改稿)》	进一步扩大医院财务管理自主权，调动医院职工积极性。
1984 年	《关于贯彻财政部关于控制行政事业经费和企业管理费开支的通知的意见》	卫生部从官方层面认可了承包制的做法，将“打破大锅饭”的改革意向写入了正式文件，特别指出“奖金发放要克服平均主义”。
1988 年	《关于部属医院试行承包责任制的意见(试行)》	在坚持全民所有制基础上参照两权分离原则，以承包合同的形式确定国家、医院的责权利关系。

—— 摘编自昝馨《历史的往复：1978~1992 年的中国公立医院改革》

(1) 中国公立医院的改革进程体现了怎样的特点？

(2) 作为历史的观察者，你认为中国公立医院改革的出路在哪里？

**【答案】**(1) 价格上实行双轨制；改革上先试点、后展开；方式上推行承包制；内容上关注民生。

(2) 个人层面：减少医疗收费，减轻人民负担；医生层面：收入上克服平均主义，调动医生的积极性；医院层面：下放部分权利到医院，调动医院的积极性；国家层面：关注民生，建立健全医疗保障体系（或：加大卫生事业建设，

加强医疗反腐)。

**【小问 1 详解】**

本题是特点类材料分析题。时空是 1979-1988 年中国。据材料“对公费医疗和劳保医疗按不包括工资的成本收费，……对城镇居民和农民的收费标准可以保持不变”得出价格上实行双轨制；据材料“加强医院经济管理管理试点工作”“部属医院试行承包责任制”得出改革上先试点、后展开；据材料“以承包合同的形式确定国家、医院的责权利关系”得出方式上推行承包制；结合所学，中国公立医院改革的最重要目的是推动医疗事业发展，满足民众医疗需求，体现关注民生。

**【小问 2 详解】**

本题是认识类材料分析题。时空是当代中国。结合当前存在的居民看病贵、医护人员收入偏低、医疗保障体系在某些方面不完善、医疗腐败问题突出等问题，提出对公立医院改革的建议。

19. 阅读材料，回答问题

主要资本主义国家(英、美、法、德)国民生产总值年均增长率(%)

	1870-1913	1913-1950	1950-1960	1960-1970
①	1.6	0.7	5.0	5.8
②	2.2	1.7	2.8	2.7
③	4.3	2.9	3.2	4.0
④	2.9	1.3	7.7	4.8

——摘自 J.M. 阿尔贝蒂尼《国家报告》

从①②③④中任选两个，根据材料信息并结合所学知识，分析说明其所对应的国家。

**【答案】**①是法国。该国在 19 世纪末 20 世纪初，20 世纪上半叶，数字最低，二战后，保持很高增长率，六七十年代最高。结合所学，19 世纪末，法国封建势力强大，资本主义经济发展缓慢；两次世界大战法国遭受重创；战后五十年代由于美国马歇尔计划援助；六十年得益于戴高乐总统政策和欧共体成立，增速最快。②是英国。与自身比，一直增长率比较平稳。与他国比，第二次工业革命后和两次世界期间增长率较低，战后直到七十年代最低。结合所学，第二次工业革命期间，美国、德国资本主义经济迅速发展，冲击英国；受经济危机和世界战争的双重影响，降低；二战后，英国经济地位大为削弱；没有及时加入欧共体，原有经济基础比法、德好，经济增长率不高。③是美国。该国在 19 世纪末 20 世纪初，20 世纪上半叶，年均增长率最高，二战后依然保持较高增速。结合所学，第二次工业革命期间，美国工业制造能力最强；在 1929-1933 年经济危机中，罗斯福新政开创国家干预经济的新模式，帮助美国渡过危机；两次世界大战期间，美国都大发战争财，成为债权国；二战后由于美国为首的资本主义经济体系建立，也较快发展。④是德国。该国与他国比，在 19 世纪末 20 世纪初，增长率仅次于美国，经济危机和世界战争期间，增长率偏低；二战后，增速远远高于其他国家；六十七年代仍然保持较高增速。结合所学，第二次工业革命

期间，德意志完成政治统一，资本主义经济快速发展；两次世界大战，德国都是战败国，故增率慢；二战后，在废墟上重建，增长率最快；由于美国马歇尔计划和欧共体成立，六七十年也较快发展。

【详解】本题是论述题之选择观点说明题，时空是 1870--1970 年欧美主要资本主义国家。这一题属于开放性试题，考生根据题目所图文信息任性两个说明。首先，根据图表时间“1870-1913”，我们结合所学知识可以判断为第二次工业革命时期，在此期间，欧美主要资本主义国家国民生产总值年均增长率(%)从高到低为美国、德国、英国、法国。在此，我们根据表格纵向的数字 1.6、2.2、4.3、2.9，对这组数据进行从高到低排序为 4.3、2.9、2.2、1.6，与此期间欧美主要资本主义国家国民生产总值年均增长率(%)从高到低为美国、德国、英国、法国。可以判断①是法国、②是英国、③是美国、④是德国。其次，根据材料其他时间“1913-1950”、“1950—1960”、“1960-1970”，选择两个国家分析。结合所学知识，先体现是哪国，即①是法国；结合表格分析其国民生产总值的变化，即该国在 19 世纪末 20 世纪初，20 世纪上半叶，数字最低，二战后，保持很高增长率，六七十年代最高；并分析其变化的原因，19 世纪末，法国封建势力强大，资本主义经济发展缓慢；两次世界大战法国遭受重创；战后五十年代由于美国马歇尔计划援助；六十年得益于戴高乐总统政策和欧共体成立，增速最快。这样就完成。其他国家同上解题。

给出示例：示例①是法国。该国在 19 世纪末 20 世纪初，20 世纪上半叶，数字最低，二战后，保持很高增长率，六七十年代最高。结合所学，19 世纪末，法国封建势力强大，资本主义经济发展缓慢；两次世界大战法国遭受重创；战后五十年代由于美国马歇尔计划援助；六十年得益于戴高乐总统政策和欧共体成立，增速最快。示例②是英国。与自身比，一直增长率比较平稳。与他国比，第二次工业革命后和两次世界期间增长率较低，战后直到七十年代最低。结合所学，第二次工业革命期间，美国、德国资本主义经济迅速发展，冲击英国；受经济危机和世界大战的双重影响，降低；二战后，英国经济地位大为削弱；没有及时加入欧共体，原有经济基础比法、德好，经济增长率不高。示例③是美国。该国在 19 世纪末 20 世纪初，20 世纪上半叶，年均增长率最高，二战后依然保持较高增速。结合所学，第二次工业革命期间，美国工业制造能力最强；在 1929-1933 年经济危机中，罗斯福新政开创国家干预经济的新模式，帮助美国渡过危机；两次世界大战期间，美国都大发战争财，成为债权国；二战后由于美国为首的资本主义经济体系建立，也较快发展。示例④是德国。该国与他国比，在 19 世纪末 20 世纪初，增长率仅次于美国，经济危机和世界大战期间，增长率偏低；二战后，增速远远高于其他国家；六十七年代仍然保持较高增速。结合所学，第二次工业革命期间，德意志完成政治统一，资本主义经济快速发展；两次世界大战，德国都是战败国，故增率慢；二战后，在废墟上重建，增长率最快；由于美国马歇尔计划和欧共体成立，六七十年也较快发展。