

第2节 三角形的各种线 (★★★)

强化训练

1. (★★) 在 $\triangle ABC$ 中, $a=4$, $b=3\sqrt{3}$, $c=5$, 则 BC 边上的中线 AD 的长为_____.

答案: $\sqrt{22}$

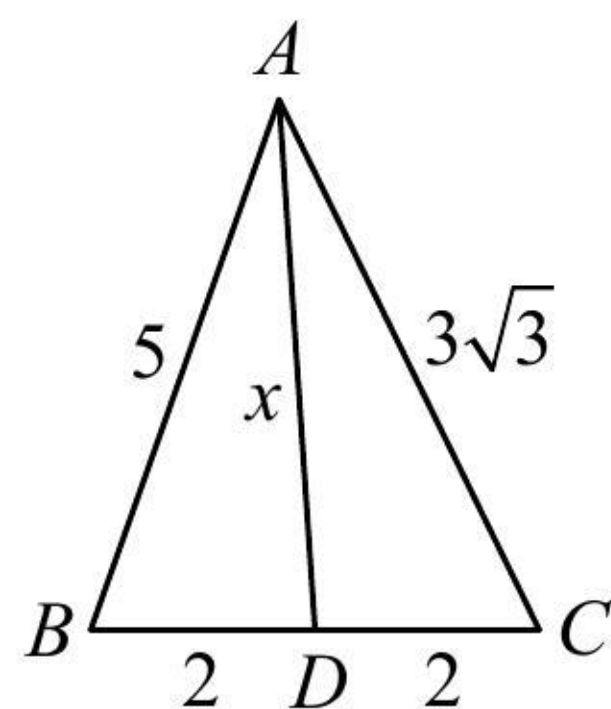
解法 1: 已知三边, 可先在 $\triangle ABC$ 中算 $\cos B$, 再到 $\triangle ABD$ 中由余弦定理算 AD ,

由题意, $\cos B = \frac{a^2 + c^2 - b^2}{2ac} = \frac{7}{20}$, 在 $\triangle ABD$ 中, $AD^2 = AB^2 + BD^2 - 2AB \cdot BD \cdot \cos B = 22$, 所以 $AD = \sqrt{22}$.

解法 2: 如图, 所有线段中只有 AD 未知, 可利用 $\angle ADB$ 与 $\angle ADC$ 互补, 建立方程求 AD ,

设 $AD = x$, 由图可知 $\angle ADC = \pi - \angle ADB$, 所以 $\cos \angle ADC = \cos(\pi - \angle ADB) = -\cos \angle ADB$,

故 $\frac{x^2 + 4 - 27}{2 \times x \times 2} = -\frac{x^2 + 4 - 25}{2 \times x \times 2}$, 解得: $x = \sqrt{22}$.



《一数·高考数学核心方法》

2. (2022·厦门模拟 ★★★) 在 $\triangle ABC$ 中, 内角 A, B, C 的对边分别为 a, b, c , 若 $b \sin C + a \sin A = b \sin B + c \sin C$, 则内角 $A =$ _____; 若 D 是边 BC 的中点, 且 $c=2$, $AD = \sqrt{13}$, 则 $a =$ _____.

答案: $\frac{\pi}{3}$; $2\sqrt{7}$

解法 1: 因为 $b \sin C + a \sin A = b \sin B + c \sin C$, 所以 $bc + a^2 = b^2 + c^2$, 从而 $b^2 + c^2 - a^2 = bc$,

故 $\cos A = \frac{b^2 + c^2 - a^2}{2bc} = \frac{bc}{2bc} = \frac{1}{2}$, 结合 $0 < A < \pi$ 可得 $A = \frac{\pi}{3}$;

如图 1, 有 a, b 两个未知数, 需建立两个方程求解, 首先对 A 用余弦定理建立一个方程,

由余弦定理, $a^2 = b^2 + c^2 - 2bc \cos A$, 将 $c=2$ 和 $A = \frac{\pi}{3}$ 代入整理得: $a^2 = b^2 + 4 - 2b$ ①,

由 $\angle ADB$ 与 $\angle ADC$ 互补可建立第二个方程,

因为 $\angle ADB = \pi - \angle ADC$, 所以 $\cos \angle ADB = \cos(\pi - \angle ADC) = -\cos \angle ADC$, 故 $\frac{\frac{a^2}{4} + 13 - 4}{2 \cdot \frac{a}{2} \cdot \sqrt{13}} = -\frac{\frac{a^2}{4} + 13 - b^2}{2 \cdot \frac{a}{2} \cdot \sqrt{13}}$,

整理得: $a^2 = 2b^2 - 44$, 代入式①整理得: $b^2 + 2b - 48 = 0$, 解得: $b=6$ 或 -8 (舍去),

代入式①可求得 $a = 2\sqrt{7}$.

解法 2: 求 A 的过程同解法 1, 也可将 \overrightarrow{AD} 用 \overrightarrow{AB} 和 \overrightarrow{AC} 表示, 借助向量的运算来求 b ,

因为 D 是 BC 中点, 所以 $\overrightarrow{AD} = \frac{1}{2}(\overrightarrow{AC} + \overrightarrow{AB})$, 从而 $|\overrightarrow{AD}|^2 = \frac{1}{4}(|\overrightarrow{AC}|^2 + |\overrightarrow{AB}|^2 + 2\overrightarrow{AC} \cdot \overrightarrow{AB})$,

故 $13 = \frac{1}{4}(b^2 + 4 + 2b \cdot 2 \cos \frac{\pi}{3})$, 解得: $b = 6$ 或 -8 (舍去),

已知两边及夹角了, 可由余弦定理求第三边 a ,

所以 $a^2 = b^2 + c^2 - 2bc \cos A = 36 + 4 - 2 \times 6 \times 2 \times \cos \frac{\pi}{3} = 28$, 故 $a = 2\sqrt{7}$.

解法 3: 求 A 的过程同解法 1, 也可将 $\triangle ABC$ 补全为如图 2 所示的平行四边形 $ABEC$, 先在 $\triangle ABE$ 中算 b ,

如图 2, $BE = AC = b$, $AE = 2AD = 2\sqrt{13}$, $\angle ABE = \pi - A = \frac{2\pi}{3}$,

在 $\triangle ABE$ 中, 由余弦定理, $AE^2 = AB^2 + BE^2 - 2AB \cdot BE \cdot \cos \angle ABE$,

所以 $52 = 4 + b^2 - 2 \times 2 \times b \times \cos \frac{2\pi}{3}$, 解得: $b = 6$ 或 -8 (舍去), 接下来求 a 的过程同解法 2.

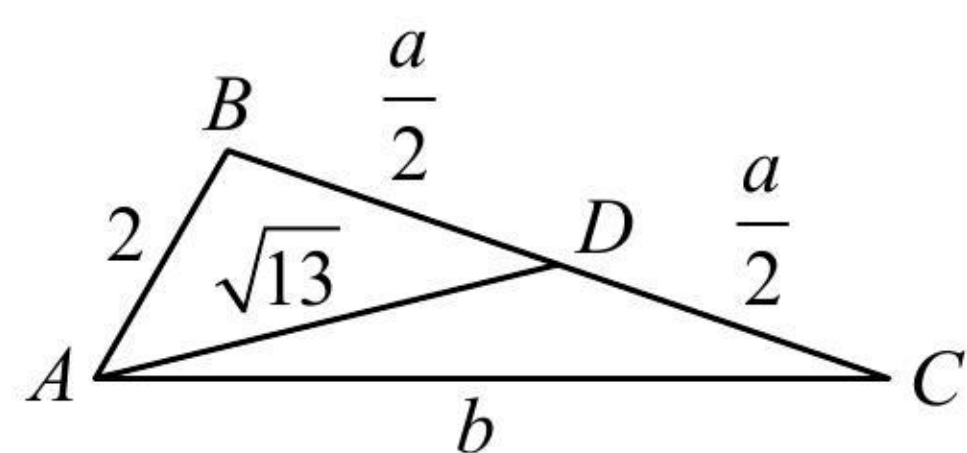


图1

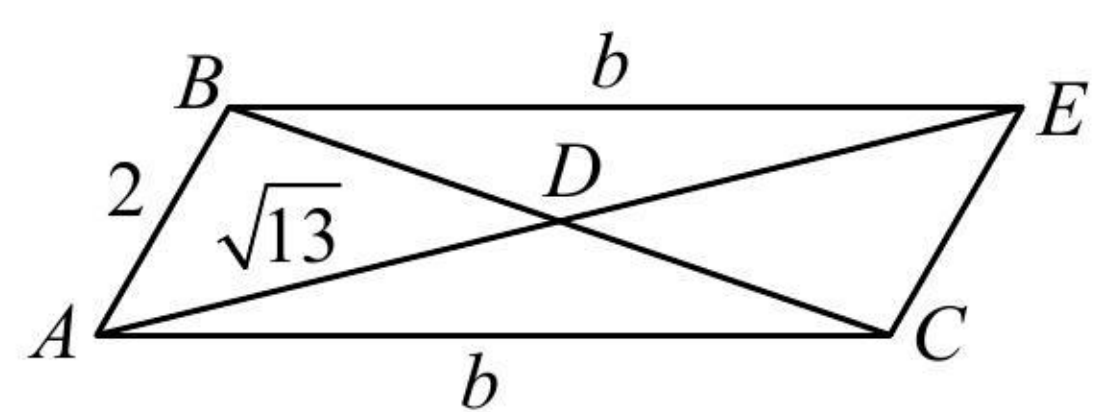


图2

【反思】后续多道题都有多种解法, 为了篇幅简洁, 我们以双余弦法 (解法 1) 为主.

3. (★★★) 在 $\triangle ABC$ 中, $b = 4$, $c = 2$, 则 BC 边上的中线 AD 的长的取值范围是_____.

答案: (1,3)

解法 1: 可选择 a 作为变量, 利用 $\angle ADB$ 与 $\angle ADC$ 互补建立等量关系, 把中线 AD 用 a 表示, 再求范围,

如图, $\angle ADB = \pi - \angle ADC$, 所以 $\cos \angle ADB = \cos(\pi - \angle ADC) = -\cos \angle ADC$,

$$\text{从而 } \frac{AD^2 + BD^2 - AB^2}{2AD \cdot BD} = -\frac{AD^2 + CD^2 - AC^2}{2AD \cdot CD}, \text{ 故 } \frac{AD^2 + \frac{a^2}{4} - 4}{2AD \cdot \frac{a}{2}} = -\frac{AD^2 + \frac{a^2}{4} - 16}{2AD \cdot \frac{a}{2}}, \text{ 所以 } AD = \sqrt{10 - \frac{a^2}{4}} \quad \textcircled{1},$$

下面先由三角形两边之和大于第三边来求 a 的范围,

$$\text{因为 } \begin{cases} a+b > c \\ a+c > b \\ b+c > a \end{cases}, \text{ 所以 } \begin{cases} a+4 > 2 \\ a+2 > 4 \\ 2+4 > a \end{cases}, \text{ 故 } 2 < a < 6, \text{ 结合式 } \textcircled{1} \text{ 可得 } 1 < AD < 3.$$

解法 2: $\triangle ABC$ 已知两边, 可引入夹角为变量, 那么 \overrightarrow{AB} 和 \overrightarrow{AC} 就知道长度和夹角, 用向量求 AD 很方便,

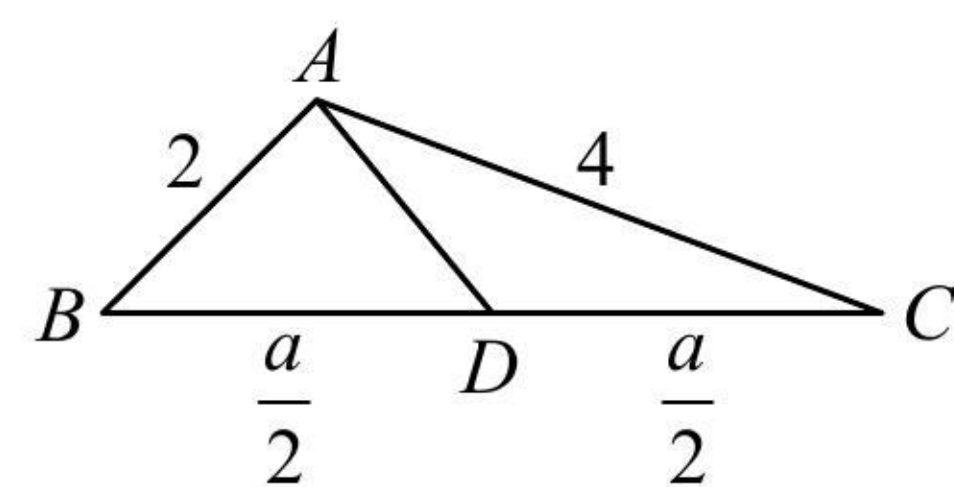
设 $\angle BAC = \theta (0 < \theta < \pi)$, 由题意, $\overrightarrow{AD} = \frac{1}{2}(\overrightarrow{AB} + \overrightarrow{AC})$,

$$\text{所以 } \overrightarrow{AD}^2 = \frac{1}{4}(\overrightarrow{AB}^2 + \overrightarrow{AC}^2 + 2\overrightarrow{AB} \cdot \overrightarrow{AC})$$

$$= \frac{1}{4}(2^2 + 4^2 + 2 \times 2 \times 4 \times \cos \theta) = 5 + 4 \cos \theta,$$

因为 $0 < \theta < \pi$, 所以 $-1 < \cos \theta < 1$,

从而 $1 < \overrightarrow{AD}^2 = 5 + 4 \cos \theta < 9$, 故 $1 < |\overrightarrow{AD}| < 3$.



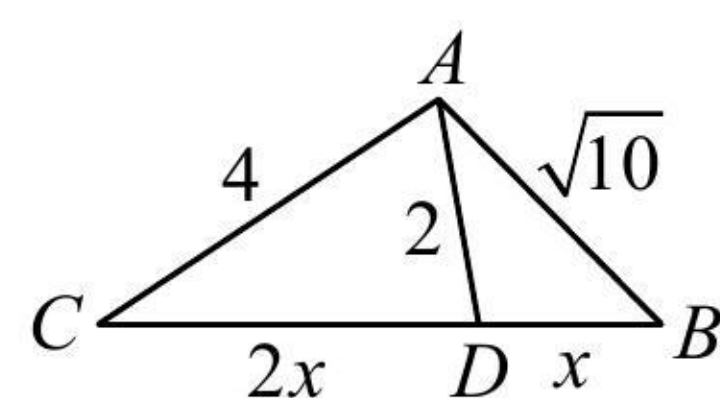
4. (★★★) 在 $\triangle ABC$ 中, 内角 A, B, C 的对边分别为 a, b, c , 已知 $b=4, c=\sqrt{10}$, D 为 BC 边上一点, $CD=2BD$, 若 $AD=2$, 则 $a=$ _____.

答案: 6

解析: 如图, 所有线段中, 只有 BD 和 CD 未知, 可设它们为未知数, 用双余弦法建立方程求解,

设 $BD=x$, 则 $CD=2x$, 因为 $\angle ADC = \pi - \angle ADB$, 所以 $\cos \angle ADC = \cos(\pi - \angle ADB) = -\cos \angle ADB$,

故 $\frac{4+4x^2-16}{2 \times 2 \times 2x} = -\frac{4+x^2-10}{2 \times 2 \times x}$, 所以 $x=2$, 故 $a=3x=6$.



5. (2023·全国甲卷·★★★) $\triangle ABC$ 中, $\angle BAC=60^\circ, AB=2, BC=\sqrt{6}$, AD 平分 $\angle BAC$ 交 BC 于点 D , 则 $AD=$ _____.

答案: 2

解析: 如图, 只要求出 AC , 就能利用等面积法建立方程求 AD , 已知两边一角, 可用余弦定理求第三边,

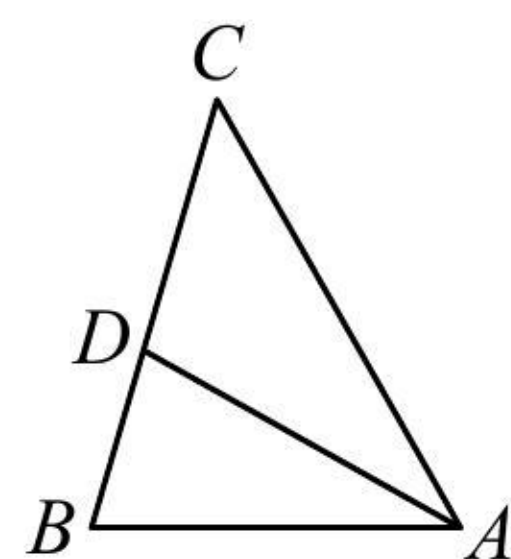
由余弦定理, $BC^2 = AB^2 + AC^2 - 2AB \cdot AC \cdot \cos \angle BAC$,

将已知条件代入可得 $6 = 4 + AC^2 - 2 \times 2 \times AC \times \cos 60^\circ$,

解得: $AC = 1 + \sqrt{3}$ 或 $1 - \sqrt{3}$ (舍去),

因为 $S_{\triangle ABD} + S_{\triangle ACD} = S_{\triangle ABC}$, 所以 $\frac{1}{2} \times 2 \times AD \times \sin 30^\circ + \frac{1}{2} \times (1 + \sqrt{3}) \times AD \times \sin 30^\circ = \frac{1}{2} \times 2 \times (1 + \sqrt{3}) \times \sin 60^\circ$,

解得: $AD = 2$.



6. (2022·渭南模拟·★★★) 在 $\triangle ABC$ 中, 角 A, B, C 的对边分别为 a, b, c , 点 D 在边 BC 上, 且 AD 平分 $\angle BAC$, $AD = \sqrt{3}$, $b \sin B - a \sin A = c(\sin B - \sin C)$, $\sin C = 3 \sin B$, 则 $\triangle ABC$ 的面积为_____.

答案: $\frac{4\sqrt{3}}{3}$

解析: 因为 $b \sin B - a \sin A = c(\sin B - \sin C)$, 所以 $b^2 - a^2 = c(b - c)$, 从而 $b^2 + c^2 - a^2 = bc$,

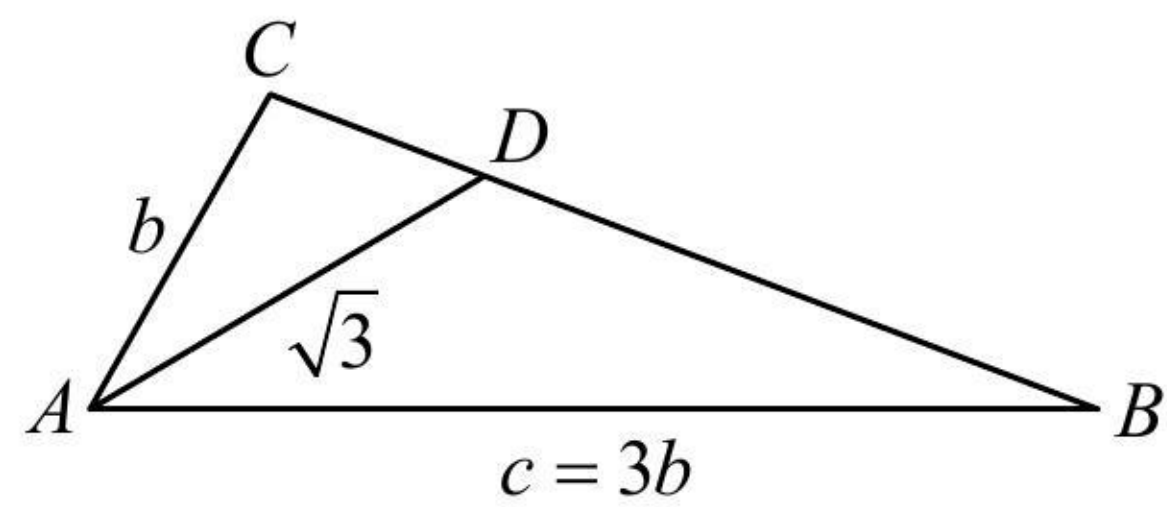
故 $\cos A = \frac{b^2 + c^2 - a^2}{2bc} = \frac{bc}{2bc} = \frac{1}{2}$, 结合 $0 < A < \pi$ 可得 $A = \frac{\pi}{3}$; 因为 $\sin C = 3 \sin B$, 所以 $c = 3b$;

接下来只要求出 b , 就能求得面积, 考虑到这是已知顶角的角平分线问题, 故可用等面积法建立方程,

因为 AD 是 $\angle BAC$ 的平分线, 且 $A = \frac{\pi}{3}$, 所以 $\angle CAD = \angle BAD = \frac{\pi}{6}$,

因为 $S_{\triangle ACD} + S_{\triangle ABD} = S_{\triangle ABC}$, 所以 $\frac{1}{2} \times \sqrt{3} \times b \times \sin \frac{\pi}{6} + \frac{1}{2} \times \sqrt{3} \times 3b \times \sin \frac{\pi}{6} = \frac{1}{2} \times b \times 3b \times \sin \frac{\pi}{3}$, 故 $b = \frac{4}{3}$, $c = 4$,

所以 $S_{\triangle ABC} = \frac{1}{2} bc \sin A = \frac{1}{2} \times \frac{4}{3} \times 4 \times \sin \frac{\pi}{3} = \frac{4\sqrt{3}}{3}$.



7. (2021 · 新高考 I 卷 · ★★★★★) 记 $\triangle ABC$ 的内角 A, B, C 的对边分别为 a, b, c . 已知 $b^2 = ac$, 点 D 在边 AC 上, $BD \sin \angle ABC = a \sin C$.

(1) 证明: $BD = b$;

(2) 若 $AD = 2DC$, 求 $\cos \angle ABC$.

解: (1) 因为 $BD \sin \angle ABC = a \sin C$, 所以 $BD \cdot b = ac$, 又 $b^2 = ac$, 所以 $BD \cdot b = b^2$, 故 $BD = b$.

(2) (如图, 在 $\triangle BCD$ 和 $\triangle ABC$ 中分别计算 $\cos C$ 可建立一个边的方程, 结合题干的 $b^2 = ac$, 可找到三边的比例关系, 由余弦定理推论求得 $\cos \angle ABC$)

因为 $AD = 2DC$, 所以 $AD = \frac{2b}{3}$, $CD = \frac{b}{3}$, 由 (1) 知 $BD = b$,

在 $\triangle BCD$ 中, $\cos C = \frac{CD^2 + BC^2 - BD^2}{2CD \cdot BC} = \frac{\frac{b^2}{9} + a^2 - b^2}{2 \cdot \frac{b}{3} \cdot a} = \frac{9a^2 - 8b^2}{6ab}$,

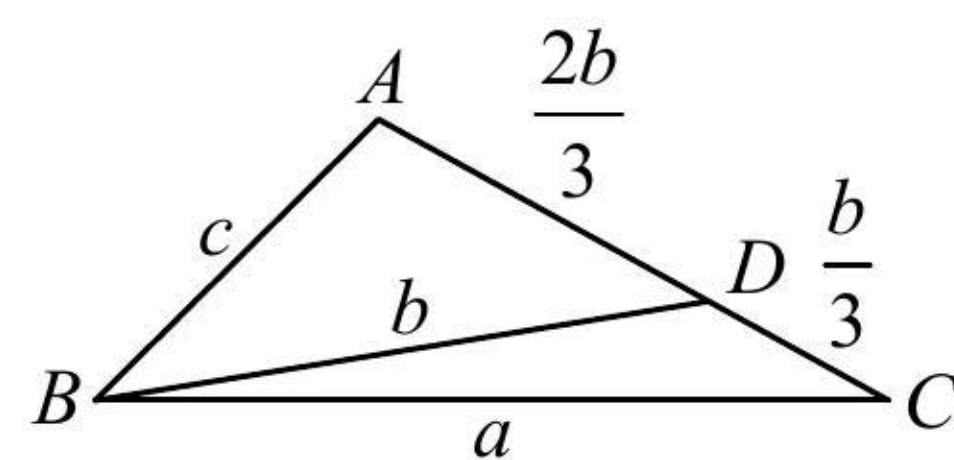
在 $\triangle ABC$ 中, $\cos C = \frac{a^2 + b^2 - c^2}{2ab}$, 所以 $\frac{9a^2 - 8b^2}{6ab} = \frac{a^2 + b^2 - c^2}{2ab}$, 整理得: $6a^2 - 11b^2 + 3c^2 = 0$,

将 $b^2 = ac$ 代入上式整理得: $6a^2 - 11ac + 3c^2 = 0$, 故 $(3a - c)(2a - 3c) = 0$, 所以 $a = \frac{c}{3}$ 或 $a = \frac{3}{2}c$,

(需检验上述两种情况是否都满足题意, 可用较小的两边之和大于最长边来检验)

若 $a = \frac{c}{3}$, 则 $b = \sqrt{ac} = \frac{\sqrt{3}}{3}c$, 此时 $a + b = \frac{1 + \sqrt{3}}{3}c < c$, 不合题意, 所以 $a = \frac{3}{2}c$, $b = \sqrt{ac} = \frac{\sqrt{6}}{2}c$,

故 $\cos \angle ABC = \frac{a^2 + c^2 - b^2}{2ac} = \frac{\frac{9}{4}c^2 + c^2 - \frac{3}{2}c^2}{2 \cdot \frac{3}{2}c \cdot c} = \frac{7}{12}$.



8. (2022 · 南京模拟 · ★★★★★) 在 $\triangle ABC$ 中, 角 A, B, C 的对边分别为 a, b, c , 已知 $2a \cos A + b \cos C + c \cos B = 0$.

(1) 求角 A ;

(2) 若 $a = 2\sqrt{3}$, 求 BC 边上的中线 AD 的长的最小值.

解: (1) 因为 $2a \cos A + b \cos C + c \cos B = 0$, 所以 $2 \sin A \cos A + \sin B \cos C + \sin C \cos B = 0$ ①,

又 $\sin B \cos C + \sin C \cos B = \sin(B+C) = \sin(\pi-A) = \sin A$, 代入式①可得 $2 \sin A \cos A + \sin A = 0$ ②,

因为 $0 < A < \pi$, 所以 $\sin A > 0$, 故在式②中约去 $\sin A$ 可得 $2 \cos A + 1 = 0$, 所以 $\cos A = -\frac{1}{2}$, 故 $A = \frac{2\pi}{3}$.

(2) (如图, 已知 A 和 a , 可由余弦定理建立 b, c 的关系, 故用双余弦法把 AD 用 b, c 表示)

如图, 因为 $\angle ADB = \pi - \angle ADC$,

所以 $\cos \angle ADB = \cos(\pi - \angle ADC) = -\cos \angle ADC$,

从而 $\frac{AD^2 + BD^2 - AB^2}{2AD \cdot BD} = -\frac{AD^2 + CD^2 - AC^2}{2AD \cdot CD}$,

故 $\frac{AD^2 + 3 - c^2}{2\sqrt{3}AD} = -\frac{AD^2 + 3 - b^2}{2\sqrt{3}AD}$,

所以 $AD^2 = \frac{b^2 + c^2}{2} - 3$ ③,

由余弦定理, $a^2 = b^2 + c^2 - 2bc \cos A$, 将 $a = 2\sqrt{3}$ 和

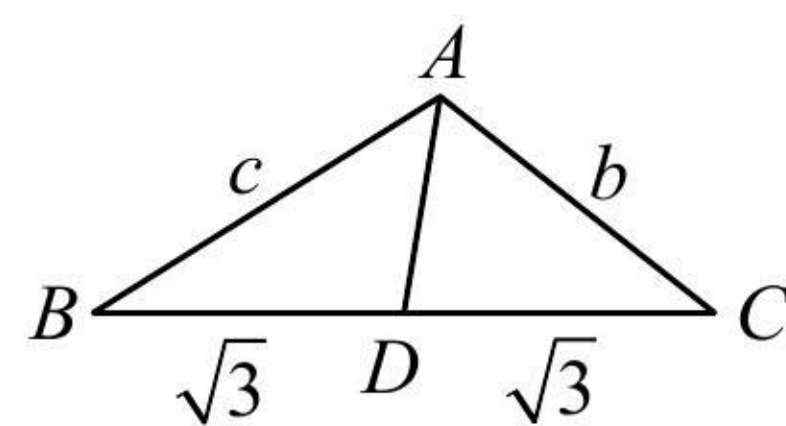
$A = \frac{2\pi}{3}$ 代入可得 $12 = b^2 + c^2 + bc$ ④,

要求 $b^2 + c^2$ 的最小值, 故在式④中, 将 bc 向 $b^2 + c^2$ 转化,

由式④可得 $12 = b^2 + c^2 + bc \leq b^2 + c^2 + \frac{b^2 + c^2}{2} = \frac{3}{2}(b^2 + c^2)$,

所以 $b^2 + c^2 \geq 8$, 结合式③可得 $AD^2 \geq 1$, 所以 $AD \geq 1$,

当且仅当 $b = c = 2$ 时取等号, 故 $AD_{\min} = 1$.



9. (2022 · 岳阳模拟 · ★★★) 在 $\triangle ABC$ 中, 角 A, B, C 的对边分别为 a, b, c , 且 $\sqrt{3}a - 2b \sin A = 0$.

(1) 求 B ;

(2) 若 B 为钝角, 且角 B 的平分线与 AC 交于点 D , $BD = \sqrt{2}$, 求 $\triangle ABC$ 的面积的最小值.

解: (1) 因为 $\sqrt{3}a - 2b \sin A = 0$, 所以 $\sqrt{3} \sin A - 2 \sin B \sin A = 0$ ①,

又 $0 < A < \pi$, 所以 $\sin A > 0$, 故在式①中约去 $\sin A$ 可得 $\sqrt{3} - 2 \sin B = 0$, 所以 $\sin B = \frac{\sqrt{3}}{2}$,

结合 $0 < B < \pi$ 可得 $B = \frac{\pi}{3}$ 或 $\frac{2\pi}{3}$.

(2) 由 (1) 知若 B 为钝角, 则 $B = \frac{2\pi}{3}$, 所以 $S_{\triangle ABC} = \frac{1}{2} ac \sin B = \frac{\sqrt{3}}{4} ac$,

(要求上式的最小值, 需寻找 a, c 的关系, 这是已知顶角的角平分线问题, 可用等面积法建立方程)

因为 BD 是角 B 的平分线, 所以 $\angle ABD = \angle CBD = \frac{\pi}{3}$,

由 $S_{\triangle ABD} + S_{\triangle CBD} = S_{\triangle ABC}$ 可得 $\frac{1}{2}c \cdot \sqrt{2} \cdot \sin \frac{\pi}{3} + \frac{1}{2}a \cdot \sqrt{2} \cdot \sin \frac{\pi}{3} = \frac{\sqrt{3}}{4}ac$, 整理得: $\sqrt{2}(a+c) = ac$,

(为了求 ac 的最小值, 可将上式中的 $a+c$ 变成 ac) 所以 $ac = \sqrt{2}(a+c) \geq \sqrt{2} \times 2\sqrt{ac}$, 故 $ac \geq 8$,

当且仅当 $a=c=2\sqrt{2}$ 时取等号, 所以 $S_{\triangle ABC} = \frac{\sqrt{3}}{4}ac \geq \frac{\sqrt{3}}{4} \times 8 = 2\sqrt{3}$, 故 $(S_{\triangle ABC})_{\min} = 2\sqrt{3}$.

